

REPÚBLICA DE COLOMBIA  
DEPARTAMENTO DE CÓRDOBA  
MUNICIPIO DE VALENCIA  
INSTITUCIÓN EDUCATIVA CATALINO GULFO  
RESOLUCIÓN No. 001630 20 DE SEPTIEMBRE DE 2002  
RATIFICADA SEGÚN RESOLUCIÓN Nº. 000529 DE DICIEMBRE 12 DE 2005  
RUT. 812004059-8 DANE No. 323855000419  
<http://catagul.edu.co/>

*Voluntad y trabajo en equipo.*

# GUÍAS EVALUATIVAS

## CUARTA ENTREGA

### GRADO 1 \_\_\_\_\_

ESTUDIANTE: \_\_\_\_\_

JUNIO 23 AL 03 DE JULIO DE 2020

EVALUACIÓN ACUMULATIVA.									
GRADO 1	AREA: LENGUA CASTELLANA				FECHA: DEL 23 DE JUNIO AL 03 DE JULIO DE 2020				
DOCENTE	DIANA NEGRETE URANGO								
CORREO: pachito2409@hotmail.com					TELEFONO: 3116124247				
FICHA DE RESPUESTAS.									
1	2	3	4	5	6	7	8	9	10
(A)	(A)	(A)	(A)	(A)	(A)	(A)	(A)	(A)	(A)
(B)	(B)	(B)	(B)	(B)	(B)	(B)	(B)	(B)	(B)
(C)	(C)	(C)	(C)	(C)	(C)	(C)	(C)	(C)	(C)
(D)	(D)	(D)	(D)	(D)	(D)	(D)	(D)	(D)	(D)
ESTUDIANTE: _____									
Teniendo en cuenta la numeración de las preguntas, rellena el círculo con la opción de la respuesta seleccionada.									

**ORIENTACIONES GENERALES.** Apreciados estudiantes, conociendo de tus capacidades, disciplina y habilidades que has logrado adquirir en el desarrollo de las guías anteriores, hoy te invito a que resuelvas con el mismo entusiasmo el siguiente cuestionario. Esta evaluación queda condicionada poniendo en práctica valores como (honestidad, responsabilidad), el interés y compromiso en el momento de realizarla. Si tienes internet o datos, te agradezco enviarme fotos o pantallazos de la ficha de respuestas diligenciadas a mi Whatsapp o al correo, lo anterior con el propósito de revisar el cuestionario.


**EVALUACIÓN ACUMULATIVA DE LENGUA CASTELLANA GRADO 1**

Primero, en cada pregunta selecciona la opción según la afirmación dada y marca con una **X**. Luego, en la parte superior hay una FICHA DE RESPUESTAS, enumerada por preguntas rellena el círculo con la letra que tenga la opción correspondiente.

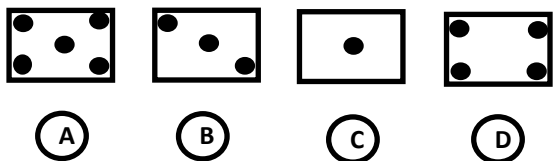
1. Lee el poema "**Luna lunerita**"

*Luna lunerita de cara crecida,  
pareces de plata de plata fina  
jay, luna, lunera carita de miel,  
pronto en un cohete te iré a ver!.*


Observa las imágenes y escoge la que haga referencia al poema.



2. Teniendo en cuenta el juego de palabras lee y separa **por sonido** la palabra **Palomo**; luego escoge la ficha que indique cuantos tiene.



3. Una de estas imágenes corresponden a un sustantivo en **género femenino**.



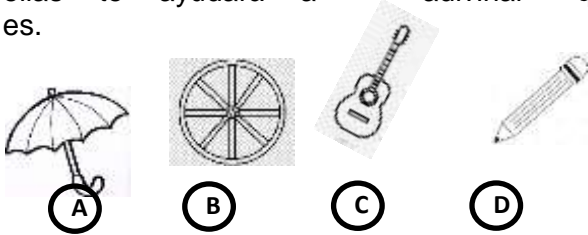
4. Con relación al género **masculino**, uno de estos sustantivos pertenece a él.

- a. Lima
- b. Maleta
- c. Pelota
- d. Lápiz

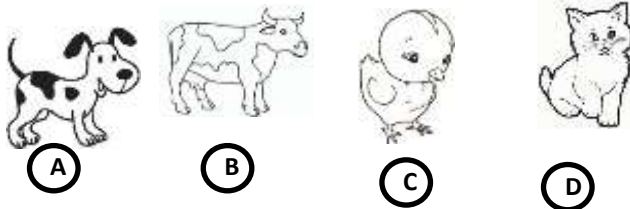
## INSTITUCIÓN EDUCATIVA CATALINO GULFO

5. Lee la siguiente adivinanza una casa con un solo horcón; ahora observa las imágenes y una de ellas te ayudará a adivinar quién es.

6.



7. Teniendo en cuenta la Onomatopella (palabras que imitan voces y sonidos); puedes decir a que animal de las ilustraciones corresponde la siguiente voz "MIAU – MIAU".



8. Observa las imágenes



Encuentra un grupo de palabras que correspondan a la escritura de su nombre.

- a. Sopa, masa
- b. Pato, pito
- c. Sapa, mata
- d. Sapo, mapa.

9. Reconoce la oración que se asocia con la imagen.



- a. El mono come helado.
- b. El mono come maní
- c. El mono come banano
- d. El mono come paleta.

10. El cuento Caperucita Roja nos deja como enseñanza o moraleja:

- a. Es bueno confiar en todos
- b. Hay que creer en todas las personas.
- c. Debemos dejarnos guiar por cualquier persona.
- d. No debemos confiar en todo el mundo.



11. Según el cuento Cenicienta, la madrastra y sus hijas sentían por Cenicienta:

- a. Amor
- b. Envidia
- c. Amistad
- d. Cariño.

# ¡Buena suerte!

## INSTITUCIÓN EDUCATIVA CATALINO GULFO

EVALUACIÓN ACUMULATIVA.									
GRADO: 1	AREA: MATEMATICAS	FECHA: DEL 23 DE JUNIO AL 03 DE JULIO DE 2020							
DOCENTE	DIANA NEGRETE URANGO	TELEFONO:3116124247							
CORREO:pachito2409@hotmail.com									
FICHA DE RESPUESTAS.									
1	2	3	4	5	6	7	8	9	10
(A)	(A)	(A)	(A)	(A)	(A)	(A)	(A)	(A)	(A)
(B)	(B)	(B)	(B)	(B)	(B)	(B)	(B)	(B)	(B)
(C)	(C)	(C)	(C)	(C)	(C)	(C)	(C)	(C)	(C)
(D)	(D)	(D)	(D)	(D)	(D)	(D)	(D)	(D)	(D)
ESTUDIANTE: _____									
Teniendo en cuenta la numeración de las preguntas, rellena el círculo con la opción de la respuesta seleccionada.									

**ORIENTACIONES GENERALES.** Estimado estudiante, teniendo en cuenta la soltura y entendimiento adquiridos en el desarrollo de las guías anteriores, resuelve el siguiente cuestionario. El aprecio, beneficio y provecho de esta evaluación quedan condicionados por la dignidad y veracidad al momento de desarrollarla. Si cuentas con internet o datos puedes enviarme fotos o pantallazos de la ficha de respuestas diligenciadas al WhatsApp o al correo.

### EVALUACIÓN ACUMULATIVA MATEMATICAS GRADO 1

**Primero, en cada pregunta marca la opción seleccionada con una X. Luego, en la parte superior FICHA DE RESPUESTAS, rellena el círculo con la opción correspondiente.**

1. De acuerdo al cuadro los números que faltan son:

Nombre: \_\_\_\_\_

Cut.    Glue in order.

1		3	4		6	7
	9	10		12		14
15	16		18	19		I Got Count to 20!
17	2	11	5	20	13	8

- A. 1,3,8,7,19,4,11
- B. 2,5,8,11,13,17,20
- C. 1,10,12,16,14,3,9
- D. 6,8,16,2,18,20,13

2. El número que se encuentra entre 15 y 17 es:

- A. 12
- B. 14
- C. 16
- D. 19

3. El número que esta antes y después de 12 es:

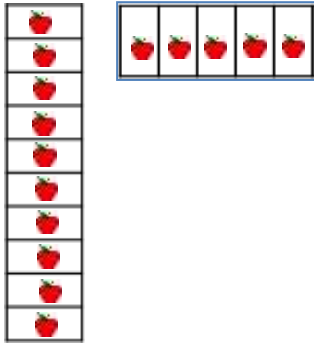
- A. 8 Y 10
- B. 11 Y 13
- C. 14 Y 16
- D. 10 Y 12

4. Una decena equivale a:

- A. 6 unidades
- B. 9 unidades
- C. 5 unidades
- D. 10 unidades.

## INSTITUCIÓN EDUCATIVA CATALINO GULFO

5. Cada cuadro contiene un número de manzanas, entonces, en los dos cuadros hay:



- A. 2 decenas y 4 unidades
- B. 3 decenas y 1 unidad
- C. **1 decena y 5 unidades**
- D. 1 decena y 2 unidades.

6. El resultado de las siguientes sumas


$$\begin{array}{r} + 27 \\ \hline 12 \end{array} \quad + \quad \begin{array}{r} 52 \\ \hline 14 \end{array}$$

- A. 39 Y 66
- B. 27 Y 42
- C. 40 Y 36
- D. 66 Y 29

7. Los términos de la sustracción son:

- A. Sumando, diferencia, igual.
- B. Sustraendo, sumando, diferencia.
- C. **Minuendo, sustraendo, diferencia.**
- D. Diferencia, igual, sumando

8. De acuerdo a la imagen el gato más alto es:

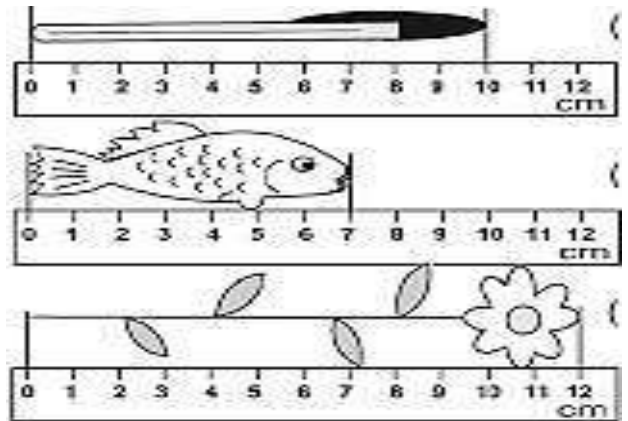


- A. 4
- B. 1
- C. 3
- D. **2**

9. Un metro tiene:

- A. 10 centímetros
- B. **100 centímetros**
- C. 50 centímetros
- D. 200 centímetros

10. Observa lo que mide cada objeto en la imagen. Luego, indica lo que miden los objetos, marcando la respuesta correcta.



- A. Miden 7, 3, 6 centímetros.
- B. **Miden 10, 7, 12 centímetros.**
- C. Miden 8, 12, 15 centímetros.
- D. Miden 4, 10, 14 centímetros.

# INSTITUCIÓN EDUCATIVA CATALINO GULFO

EVALUACIÓN ACUMULATIVA.									
GRADO 1B	AREA: NATURALES	FECHA: DEL 23 DE JUNIO AL 03 DE JULIO DE 2020							
DOCENTE	DIANA NEGRETE URANGO								
CORREO: <a href="mailto:pachito2409@hotmail.com">pachito2409@hotmail.com</a>		TELEFONO: 3116124247							
FICHA DE RESPUESTAS.									
1	2	3	4	5	6	7	8	9	10
(A)	(A)	(A)	(A)	(A)	(A)	(A)	(A)	(A)	(A)
(B)	(B)	(B)	(B)	(B)	(B)	(B)	(B)	(B)	(B)
(C)	(C)	(C)	(C)	(C)	(C)	(C)	(C)	(C)	(C)
(D)	(D)	(D)	(D)	(D)	(D)	(D)	(D)	(D)	(D)
ESTUDIANTE: _____									
Teniendo en cuenta la numeración de las preguntas, rellena el círculo con la opción de la respuesta seleccionada.									

**ORIENTACIONES GENERALES.** Apreciados estudiantes saludos, teniendo en cuenta de tus capacidades, habilidades y disciplina que has demostrado con la realización de las guías anteriores, hoy nuevamente te invito a resolver este cuestionario. Esta evaluación la realizamos poniendo en práctica valores como (honestidad, responsabilidad), el interés y compromiso. Si tienes internet o datos, favor enviarme fotos o pantallazos de la ficha de respuestas diligenciadas a mi WhatsApp o al correo, lo anterior con el propósito de revisar el cuestionario.

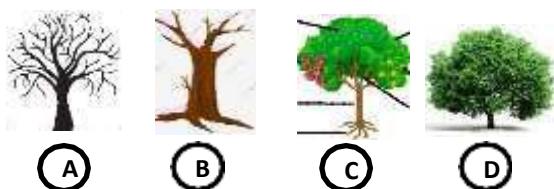
## EVALUACIÓN ACUMULATIVA DE NATURALES GRADO 1

**Primero:** en cada pregunta selecciona la opción según la afirmación dada y marca con una **X**. Luego, en la parte superior hay una FICHA DE RESPUESTAS, enumerada por preguntas rellena el círculo con la opción correspondiente.

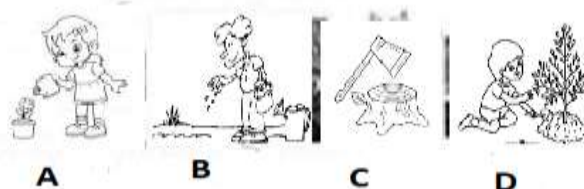
1. Teniendo en cuenta que los seres vivos de la naturaleza presentan características como (nacer, crecer, reproducir y morir). Entonces podemos decir que uno de estos grupos pertenece a ellos:

- a. Mesa- Cama
- b. Lápiz- Casa
- c. Dado- Foco
- d. Animal- Plantas


2. Observa las siguientes imágenes de una planta, identifica la que tenga las partes completas.



3. Para conocer el verdadero cuidado que se le debe dar a una planta, observa las imágenes a continuación. Identifica la que está haciendo daño e impide continuar con su ciclo de vida



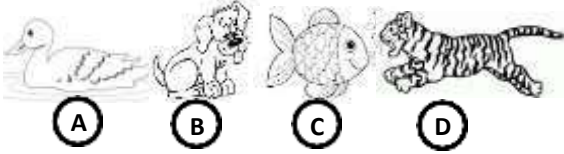
4. Observa las ilustraciones y responde ¿Cuál de los animales ilustrado pertenece al grupo de los invertebrados (no tienen huesos)?



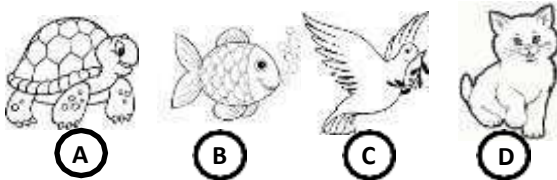


## INSTITUCIÓN EDUCATIVA CATALINO GULFO

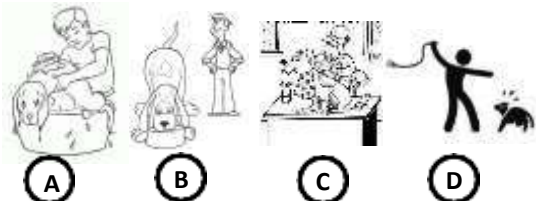
5. Teniendo en cuenta que los animales domésticos, pueden vivir con el hombre. Entonces podemos decir que uno de estos animales no lo pueden hacer por su condición salvaje.



6. Estos son algunos animales del medio donde vives; pero uno de ellos se diferencia por su cubierta corporal (dura y resistente).



7. El maltrato animal, es una acción que hoy día le está haciendo daño a este reino. Entonces escoge una de estas imágenes que ilustren esta acción.



8. En la naturaleza existen seres que no tienen vida (muerta e inerte). Escoge un grupo que está a continuación, que cumpla esta característica:

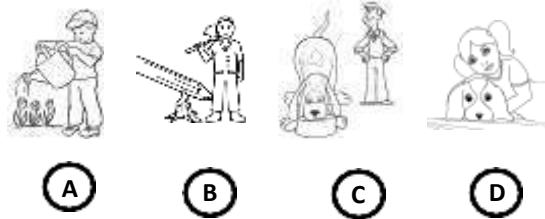
- A. Perro – gato
- B. Árbol – flor
- C. Piedra – mesa
- D. Hombre – vaca.

9. Los minerales pertenecen a los seres inertes o muertos, pero a su vez son necesarios en el planeta tierra. Observa el cartel y encontraras uno que es indispensable para la vida del hombre, animales y plantas. (sin él no podemos vivir).



- a. Oro
- b. Agua
- c. Piedra
- d. Hierro

10. Observando las imágenes podemos decir que una de ellas no cumple con el cuidado de los seres de la naturaleza.




# ¡Éxitos!

EVALUACIÓN ACUMULATIVA.				
GRADO: 1	AREA: AGROPECUARIA	FECHA: DEL 23 DE JUNIO AL 03 DE JULIO DE 2020		
DOCENTE	DIANA NEGRETE URANGO			
CORREO: PACHITO2409@HOTMAIL.COM		TELEFONO: 3116124247		
FICHA DE RESPUESTAS.				
ESTUDIANTE: _____				
Teniendo en cuenta la numeración de las preguntas, rellena el círculo con la opción de la respuesta seleccionada.				
1	2	3	4	5
(A)	(A)	(A)	(A)	(A)
(B)	(B)	(B)	(B)	(B)
(C)	(C)	(C)	(C)	(C)
(D)	(D)	(D)	(D)	(D)

**ORIENTACIONES GENERALES.** Estimado estudiante, teniendo en cuenta la soltura y entendimiento adquiridos en el desarrollo de las guías anteriores, resuelve el siguiente cuestionario. El aprecio, beneficio y provecho de esta evaluación quedan condicionados por la dignidad y veracidad al momento de desarrollarla. Si cuentas con internet o datos puedes enviarme fotos o pantallazos de la ficha de respuestas diligenciadas al WhatsApp o al correo.

**EVALUACIÓN ACUMULATIVA AGROPECUARIA GRADO 1**

**Primero, en cada pregunta marca la opción seleccionada con una X. Luego, en la parte superior FICHA DE RESPUESTAS, rellena el círculo con la opción correspondiente.**

- |                                                                                                                                                                                                                                                                                                                                                                                                                                                                                                                                                                                                                                                                        |                                                                                                                                                                                                                                                                                                                                                                                                                                                                                                                                                 |
|------------------------------------------------------------------------------------------------------------------------------------------------------------------------------------------------------------------------------------------------------------------------------------------------------------------------------------------------------------------------------------------------------------------------------------------------------------------------------------------------------------------------------------------------------------------------------------------------------------------------------------------------------------------------|-------------------------------------------------------------------------------------------------------------------------------------------------------------------------------------------------------------------------------------------------------------------------------------------------------------------------------------------------------------------------------------------------------------------------------------------------------------------------------------------------------------------------------------------------|
| <p>1. Las plantas ornamentales son aquellas que sirven para:</p> <ul style="list-style-type: none"> <li>A. Lastimar</li> <li>B. Embellecer</li> <li>C. Alimentar</li> <li>D. Sembrar</li> </ul> <p>2. De las siguientes plantas, indica ¿Cuáles son ornamentales?</p> <ul style="list-style-type: none"> <li>A. Mango y pera</li> <li>B. Coral y girasol</li> <li>C. Plátano y yuca</li> <li>D. Maíz y mango</li> </ul> <p>3. Indica, ¿Cuáles de las siguientes plantas, pertenecen a mi región?</p> <ul style="list-style-type: none"> <li>A. Clavel y lilas</li> <li>B. Tulipán y gladiolos</li> <li>C. Rosas y margaritas</li> <li>D. Azucena y coliflor</li> </ul> | <p>4. Observa la siguiente imagen e indica ¿Qué flor es?</p> <div style="display: flex; align-items: center; margin: 10px 0;"> <ul style="list-style-type: none"> <li>A. Rosa</li> <li>B. Girasol</li> <li>C. Tulipán</li> <li>D. Bonche</li> </ul>  </div> <p>5. En la guía #3 se te pidió que sembraras una planta ornamental en tu casita ¿lo hiciste?</p> <ul style="list-style-type: none"> <li>A. SI</li> <li>B. NO</li> <li>C. CUAL_____</li> </ul> |
|------------------------------------------------------------------------------------------------------------------------------------------------------------------------------------------------------------------------------------------------------------------------------------------------------------------------------------------------------------------------------------------------------------------------------------------------------------------------------------------------------------------------------------------------------------------------------------------------------------------------------------------------------------------------|-------------------------------------------------------------------------------------------------------------------------------------------------------------------------------------------------------------------------------------------------------------------------------------------------------------------------------------------------------------------------------------------------------------------------------------------------------------------------------------------------------------------------------------------------|

**RECUERDA DEBES REGAR Y CUIDAR LAS PLANTAS.  
¡ÉXITO**



## INSTITUCIÓN EDUCATIVA CATALINO GULFO

EVALUACIÓN ACUMULATIVA.									
GRADO: 1	AREA: CIENCIAS SOCIALES				FECHA: DEL 23 DE JUNIO AL 03 DE JULIO DE 2020				
DOCENTE	DIANA NEGRETE URANGO								
CORREO:pachito2409@hotmail.com					TELEFONO:3116124247				
FICHA DE RESPUESTAS.									
1	2	3	4	5	6	7	8	9	10
(A)	(A)	(A)	(A)	(A)	(A)	(A)	(A)	(A)	(A)
(B)	(B)	(B)	(B)	(B)	(B)	(B)	(B)	(B)	(B)
(C)	(C)	(C)	(C)	(C)	(C)	(C)	(C)	(C)	(C)
(D)	(D)	(D)	(D)	(D)	(D)	(D)	(D)	(D)	(D)
ESTUDIANTE: _____									
Teniendo en cuenta la numeración de las preguntas, rellena el círculo con la opción de la respuesta seleccionada.									

**ORIENTACIONES GENERALES.** Estimado estudiante, teniendo en cuenta la soltura y entendimiento adquiridos en el desarrollo de las guías anteriores, resuelve el siguiente cuestionario. El aprecio, beneficio y provecho de esta evaluación quedan condicionados por la dignidad y veracidad al momento de desarrollarla. Si cuentas con internet o datos puedes enviarme fotos o pantallazos de la ficha de respuestas diligenciadas al WhatsApp o al correo.

### EVALUACIÓN ACUMULATIVA CIENCIAS SOCIALES GRADO 1

**Primero, en cada pregunta marca la opción seleccionada con una X. Luego, en la parte superior FICHA DE RESPUESTAS, rellena el círculo con la opción correspondiente.**

**1. Qué actividades hacemos en el colegio?:**

- A. Trabajar, bailar y estudiar.
- B. Leer, escribir y dibujar.
- C. Lavar, cocinar y jugar.
- D. Jugar, baila, pescar

**2. El nombre de mi institución es?:**

- A. Nuestra señora del Rosario.
- B. José maría Carbonell.
- C. Catalino Gulfo.
- D. Manuela Beltrán

**3. Para qué sirve el manual de convivencia?:**

- A. Saber los derechos y deberes de los estudiantes.
- B. Mandar.
- C. Estar en la biblioteca.
- D. Castigar los estudiantes.

**4. El nombre de mi profesora es?:**

- A. Diana
- B. Tulia
- C. Gregoria
- D. Edna

## INSTITUCIÓN EDUCATIVA CATALINO GULFO

5. La sede donde estudio es:

- A. Catalino Gulfo.
- B. Nazaret.
- C. Buena vista
- D. Manuela Beltrán

6. Personas que son miembro del grupo escolar:

- A. Mecánico, chofer y profesor
- B. profesor, estudiantes, padres de familia
- C. Doctor, futbolista y zapatero
- D. Grupo ecológico, panadero, enfermera

7. Los elementos de un paisaje rural son:

- A. Barco, bicicleta y carro
- B. Rio, montañas y arboles
- C. Puente, parque y quebrada
- D. Arroyo, parque, almacén

8. La palabra urbano hace referencia a:


- A. Campo
- B. Ciudad
- C. Montañas
- D. Población dispersa

9. ¿En qué paisaje ubicas tu Colegio?

- A. Rural
- B. Urbana
- C. Veredal
- D. Selva

10. Observa e identifica que tipo de paisaje es:

- A. Rural
- B. Urbana
- C. Veredal
- D. Selva



**Todos juntos formamos una comunidad urbana que está en continuo cambio.**

**¡Éxitos!**

## INSTITUCIÓN EDUCATIVA CATALINO GULFO


EVALUACIÓN ACUMULATIVA.				
GRADO: 1	AREA: ARTISTICA	FECHA: DEL 23 DE JUNIO AL 03 DE JULIO DE 2020		
DOCENTE	DIANA NEGRETE URANGO	TELEFONO:3116124247		
CORREO:pachito2409@hotmail.com				
FICHA DE RESPUESTAS.				
1	2	3	4	5
(A)	(A)	(A)	(A)	(A)
(B)	(B)	(B)	(B)	(B)
(C)	(C)	(C)	(C)	(C)
(D)	(D)	(D)	(D)	(D)
ESTUDIANTE: _____				
Teniendo en cuenta la numeración de las preguntas, rellena el círculo con la opción de la respuesta seleccionada.				

**ORIENTACIONES GENERALES.** Estimado estudiante, teniendo en cuenta la soltura y entendimiento adquiridos en el desarrollo de las guías anteriores, resuelve el siguiente cuestionario. El aprecio, beneficio y provecho de esta evaluación quedan condicionados por la dignidad y veracidad al momento de desarrollarla. Si cuentas con internet o datos puedes enviarme fotos o pantallazos de la ficha de respuestas diligenciadas al Whatsapp o al correo

### EVALUACIÓN ACUMULATIVA MATEMATICAS GRADO 1

**Primero, en cada pregunta marca la opción seleccionada con una X. Luego, en la parte superior FICHA DE RESPUESTAS, rellena el círculo con la opción correspondiente**

1. En la imagen se encuentran las siguientes Figuras geométricas:



- A. Ovalo, triangulo, esfera, circulo  
 B. Círculo, trapecio, cuadrado, ovalo


- C. Círculo, triangulo, cuadrado, rectángulo  
 D. Rectángulo, trapecio, circulo, cuadrado

2. Las figuras geométricas son:

- .A. son conjuntos cerrados definidos por una serie de puntos  
 B. son líneas curvas que van en cualquier dirección.  
 C. son círculos cerrados que no tienen salida  
 D. son cuatro líneas sin dirección.

## INSTITUCIÓN EDUCATIVA CATALINO GULFO

3. ¿Cuál de los siguientes diseños le quedaría mejor para decorar el animal del dibujo?



4 De acuerdo a la imagen que materiales están utilizando



- A. Colores, papel
- B. Pinturas, colbón
- C. Pincel, pinturas
- D. Pincel, colores

5 Para hacer dátilo- pintura utilizamos materiales como:

- A. Cuadros con pinturas
- B. Pies con colores
- C. Manos con pinturas
- D. Papeles con colores

EVALUACIÓN ACUMULATIVA.		
GRADO: 1	AREA: EDUCACION FISICA	FECHA: DEL 23 DE JUNIO AL 03 DE JULIO DE 2020
DOCENTE	DIANA NEGRETE URANGO	
CORREO:pachito2409@hotmail.com		TELEFONO:3116124247

FICHA DE RESPUESTAS.				
1	2	3	4	5
(A)	(A)	(A)	(A)	(A)
(B)	(B)	(B)	(B)	(B)
(C)	(C)	(C)	(C)	(C)
(D)	(D)	(D)	(D)	(D)

ESTUDIANTE: \_\_\_\_\_

Teniendo en cuenta la numeración de las preguntas, rellena el círculo con la opción de la respuesta seleccionada.

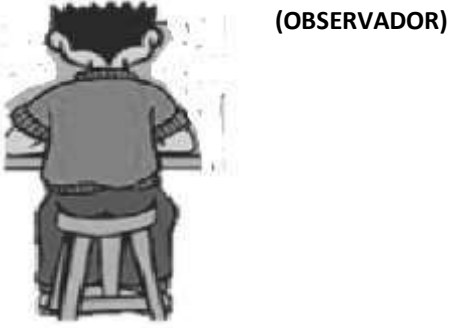
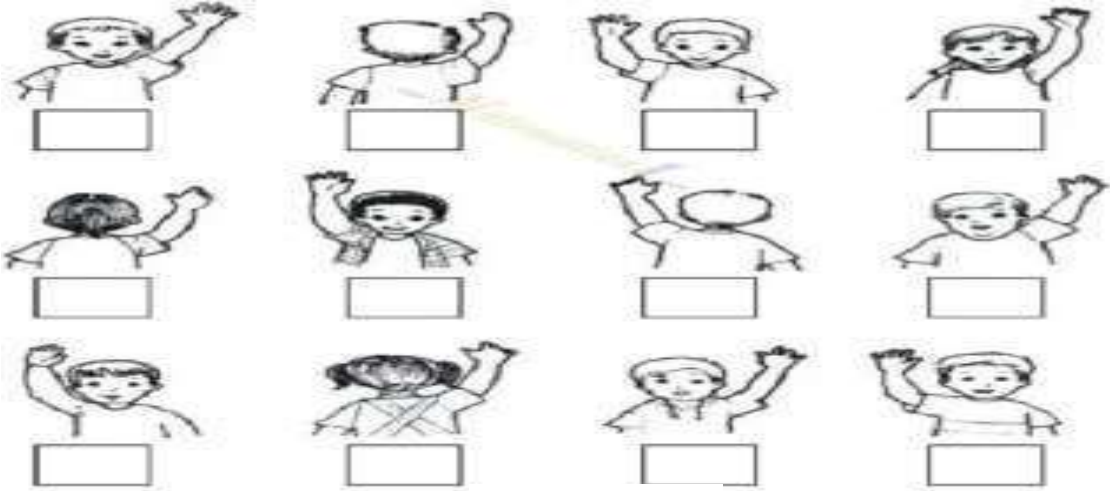
**ORIENTACIONES GENERALES.** Estimado estudiante, teniendo en cuenta la soltura y entendimiento adquiridos en el desarrollo de las guías anteriores, resuelve el siguiente cuestionario. El aprecio, beneficio y provecho de esta evaluación quedan condicionados por la dignidad y veracidad al momento de desarrollarla. Si cuentas con internet o datos puedes enviarme fotos o pantallazos de la ficha de respuestas diligenciadas al WhatsApp o al correo.

**EVALUACIÓN ACUMULATIVA EDUCACION FISICA GRADO 1**

Primero, en cada pregunta marca la opción seleccionada con una **X**. Luego, en la parte superior FICHA DE RESPUESTAS, rellena el círculo con la opción correspondiente.

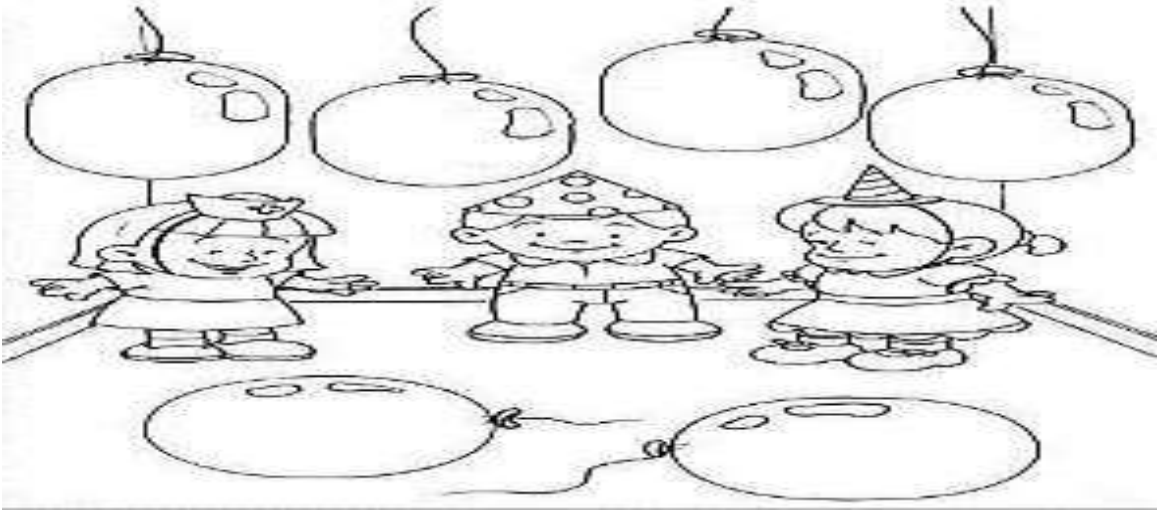
**Recordando las nociones Espaciales derecha – izquierda y Arriba – abajo**

1. ¿De acuerdo a la persona que está como observador, cuántos niños tienen la mano derecha levantada?, Enuméralos.



- A. 6
- B. 4
- C. 2
- D. 8

2. Observa la imagen ¿cuantos  
¿Globos hay arriba?, colorea.



- A. 5
- B. 6
- C. 4
- D. 3

3. Te gustan los juegos tradicionales.

- A. Si
- B. No
- C. Casi siempre
- D. A veces

4. ¿Cuál de estos juegos prácticas en casa?

- A. El bate
- B. El avión
- C. Bailar el trompo
- D. Bolita de cristal

5. ¿cómo se llama este juego?

- A. Trompo
- B. Rayuela
- C. Velillo
- D. Gallina ciega



**Recuerda lavar tus manos cada vez que juegas**





# INSTITUCIÓN EDUCATIVA CATALINO GULFO





EVALUACIÓN ACUMULATIVA.				
GRADO 1	AREA: ETICA	FECHA: DEL 23 DE JUNIO AL 03 DE JULIO DE 2020		
DOCENTE	DIANA NEGRETE URANGO	TELEFONO: 3116124247		
CORREO: <a href="mailto:pachito2409@hotmail.com">pachito2409@hotmail.com</a>				
FICHA DE RESPUESTAS.				
1	2	3	4	5
<input type="radio"/> A <input type="radio"/> B <input type="radio"/> C <input type="radio"/> D	<input type="radio"/> A <input type="radio"/> B <input type="radio"/> C <input type="radio"/> D	<input type="radio"/> A <input type="radio"/> B <input type="radio"/> C <input type="radio"/> D	<input type="radio"/> A <input type="radio"/> B <input type="radio"/> C <input type="radio"/> D	<input type="radio"/> A <input type="radio"/> B <input type="radio"/> C <input type="radio"/> D
ESTUDIANTE: _____				
Teniendo en cuenta la numeración de las preguntas, rellena el círculo con la opción de la respuesta seleccionada.				

**ORIENTACIONES GENERALES.** Apreciados estudiantes, teniendo en cuenta tu interés, capacidades, dedicación que has demostrado en la realización de las diferentes guías; te invito a resolver este pequeño cuestionario. Tu honestidad y responsabilidad te ayudará a abordar este ejercicio. Si tienes los medios (internet o datos), envíame fotos o pantallazos de la ficha de respuestas diligenciadas a mi Whatsapp o al correo, lo anterior con el propósito de revisar el cuestionario.

## EVALUACIÓN ACUMULATIVA DE ETICA Y VALORES GRADO 1

**Primero:** en cada pregunta selecciona la opción según la afirmación dada y marca con una **X**. Luego, en la parte superior hay una FICHA DE RESPUESTAS, enumerada por preguntas rellena el círculo con la opción correspondiente.

1. La familia es un grupo de personas que comparten contigo: amor, respeto, confianza, alegrías, tristezas, perdón. Observa las imágenes e identifica la que **NO** corresponda a la afirmación.

<p>A.-</p> 	<p>B.</p> 
<p>C.</p> 	<p>D.</p> 


## INSTITUCIÓN EDUCATIVA CATALINO GULFO

2. Dios te dejó como un modelo a seguir los diez mandamientos. Uno de ellos hace referencia a la importancia que debemos darle a nuestros padres.

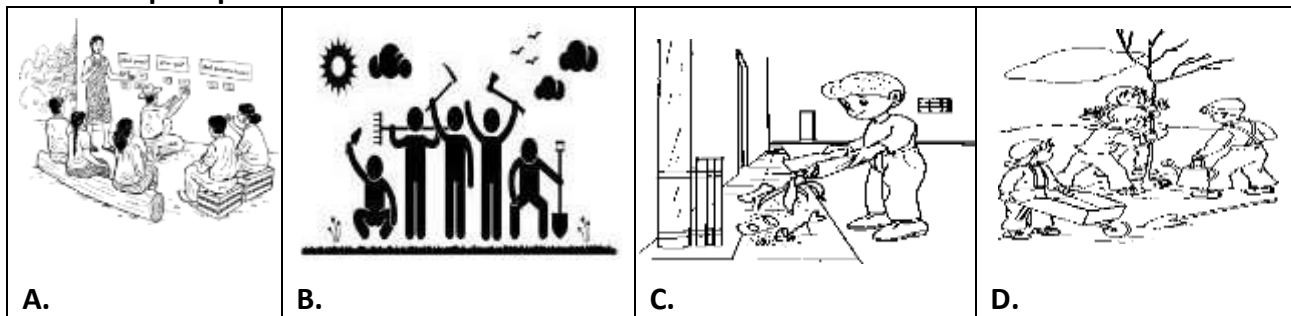
**B**

- a. No jurar su nombre en vano.
- b. Santificar las fiestas.
- c. Honrar a padre y madre.
- d. No mentir.

3. El segundo hogar donde te tratan con respeto, cariño y educación porque desean lo mejor para ti. Es un lugar diferente a la casa.



4. El barrio es un lugar donde está ubicada la casa en la que vivo, por eso debo mostrar por el "sentido de pertenencia". Observa las imágenes e identifica cual **NO** ilustra el respeto por el barrio.



5. Querido estudiante la escuela es tu segundo hogar, aquí ayudan a hacer de ti una persona instruida y de buena formación. Por eso debes:

- a. Cuidarla
- b. Destruirla
- c. Permitir que otros la destruyan
- d. Ayudar a dañar las sillas, los computadores, tableros, paredes y otros.

# ¡Éxitos!

# INSTITUCIÓN EDUCATIVA CATALINO GULFO

EVALUACIÓN ACUMULATIVA.				
GRADO: 1	AREA: INFORMÁTICA	FECHA: DEL 23 DE JUNIO AL 03 DE JULIO DE 2020		
DOCENTE	DIANA NEGRETE URANGO			
CORREO:pachito2409@hotmail.com		TELEFONO:3116124247		
<b>FICHA DE RESPUESTAS.</b>				
1	2	3	4	5
(A)	(A)	(A)	(A)	(A)
(B)	(B)	(B)	(B)	(B)
(C)	(C)	(C)	(C)	(C)
(D)	(D)	(D)	(D)	(D)
ESTUDIANTE: _____				
Teniendo en cuenta la numeración de las preguntas, rellena el círculo con la opción de la respuesta seleccionada.				

**ORIENTACIONES GENERALES.** Estimado estudiante, teniendo en cuenta la soltura y entendimiento adquiridos en el desarrollo de las guías anteriores, resuelve el siguiente cuestionario. El aprecio, beneficio y provecho de esta evaluación quedan condicionados por la dignidad y veracidad al momento de desarrollarla. Si cuentas con internet o datos puedes enviarme fotos o pantallazos de la ficha de respuestas diligenciadas al Whatsapp o al correo

## EVALUACIÓN ACUMULATIVA INFORMATICA GRADO 1

Primero, en cada pregunta marca la opción seleccionada con una **X**. Luego, en la parte superior FICHA DE RESPUESTAS, rellena el círculo con la opción correspondiente .

1. De acuerdo a la imagen los medios de comunicación que se encuentran son:



- A. Celular, radio, teléfono.
- B. Internet, periódico, radio.
- C. Periódico, celular, teléfono.
- D. Internet, tv, periódico.

2. El televisor es un medio de comunicación:

- A. Auditivo
- B. Visual
- C. Audiovisual
- D. Escrito

## INSTITUCIÓN EDUCATIVA CATALINO GULFO

**3. Algunos medios de comunicación que se utiliza en nuestro medio son:**

- A. carta, telegrama, radio.
- B. celular, internet, carta.
- C. radio, periódico, telegrama
- D. celular, radio, internet.

**5. Para que nos sirve el correo electrónico.**

- A. para descansar
- B. para dormir
- C. permite el envío **de** mensajes por medios informáticos.
- D. permite escuchar música

**4. Algunas ventajas y desventajas de los medios de comunicación son**

- A. Que estos permiten comunicarse a pesar de la distancia, es que estos dependen en gran medida de la tecnología.
- B. Que todos son útiles al ser humanos y nos ayudan a escribir y escuchar cosas malas.
- C. No dependen de ninguna tecnología, solo la maneja el hombre
- D. Estos permiten comunicarse solo con las personas que están cercas.

## INSTITUCIÓN EDUCATIVA CATALINO GULFO

EVALUACIÓN ACUMULATIVA.			
GRADO 1	AREA: INGLÉS	FECHA: DEL 23 DE JUNIO AL 03 DE JULIO DE 2020	
DOCENTE	DIANA NEGRETE URANGO	TELEFONO:3116124247	
CORREO:pachito2409@hotmail.com.			
FICHA DE RESPUESTAS.			
1	2	3	4
<input type="radio"/> A <input type="radio"/> B <input type="radio"/> C <input type="radio"/> D	<input type="radio"/> A <input type="radio"/> B <input type="radio"/> C <input type="radio"/> D	<input type="radio"/> A <input type="radio"/> B <input type="radio"/> C <input type="radio"/> D	<input type="radio"/> A <input type="radio"/> B <input type="radio"/> C <input type="radio"/> D
ESTUDIANTE: _____			
Teniendo en cuenta la numeración de las preguntas, rellena el círculo con la opción de la respuesta seleccionada.			

**ORIENTACIONES GENERALES.** Estimado estudiante, teniendo en cuenta las habilidades y conocimientos adquiridos en el desarrollo de las guías anteriores, resuelve el siguiente cuestionario. El valor, interés y utilidad de esta evaluación quedan condicionados por la honestidad y sinceridad al momento de abordarla. Si cuentas con internet o datos puedes enviarme fotos o pantallazos de la ficha de respuestas diligenciadas al WhatsApp o al correo.

### EVALUACIÓN ACUMULATIVA LENGUA CASTELLANA GRADO 1

**Primero, en cada pregunta marca la opción seleccionada con una X. Luego, en la parte superior FICHA DE RESPUESTAS, rellena el círculo con la opción correspondiente.**

Los miembros de la familia en inglés.

1. Señala la escritura de la imagen

- A. Father
- B. Mother
- C. Nose
- D. Hands.



2. La escritura de la imagen es?

- A. Dog
- B. Mouth.
- C. Mother.
- D. Father.



3. ¿Cómo se escribe el número de la imagen?

- A. Two
- B. One
- C. Three
- D. Five



4. Cual pareja no corresponde?.

- a. Green ----- verde.
- b. Blue ----- rojo
- c. Yellow----- amarillo
- d. Red ----- rojo

## INSTITUCIÓN EDUCATIVA CATALINO GULFO

EVALUACIÓN ACUMULATIVA.				
GRADO 1	AREA: RELIGIÓN	FECHA: DEL 23 DE JUNIO AL 03 DE JULIO DE 2020		
DOCENTE	DIANA NEGRETE URANGO			
CORREO:pachito2409@hotmail.com		TELEFONO:3116124247		
FICHA DE RESPUESTAS.				
1	2	3	4	5
Ⓐ	Ⓐ	Ⓐ	Ⓐ	Ⓐ
Ⓑ	Ⓑ	Ⓑ	Ⓑ	Ⓑ
Ⓒ	Ⓒ	Ⓒ	Ⓒ	Ⓒ
Ⓓ	Ⓓ	Ⓓ	Ⓓ	Ⓓ
<p>ESTUDIANTE: _____</p> <p>Teniendo en cuenta la numeración de las preguntas, rellena el círculo con la opción de la respuesta seleccionada.</p>				

**ORIENTACIONES GENERALES.** Estimado estudiante, teniendo en cuenta las habilidades y conocimientos adquiridos en el desarrollo de las guías anteriores, resuelve el siguiente cuestionario. El valor, interés y utilidad de esta evaluación quedan condicionados por la honestidad y sinceridad al momento de abordarla. Si cuentas con internet o datos puedes enviarme fotos o pantallazos de la ficha de respuestas diligenciadas al Whatsapp o al correo.

### EVALUACIÓN ACUMULATIVA LENGUA CASTELLANA GRADO 1A

Primero, en cada pregunta marca la opción seleccionada con una X. Luego, en la parte superior FICHA DE RESPUESTAS, rellena el círculo con la opción correspondiente.

#### 1. Observa y colorea la imagen de la creación del mundo.



Dios nos ha regalado el mundo a las personas.  
 ¡Por qué será?  
 Porque las personas somos lo más importante de la creación.  
 Para que destruyamos a las plantas.  
 Porque debemos desperdiciar el agua  
 ¿Debemos agradecer a Dios peleando con nuestra familia?

***Mamita o papito léeme el relato del nacimiento y la familia de Jesús, como una buena noticia para la humanidad.***

María y José Vivian en un pueblo llamado Nazaret. María estaba embarazada. Pero poco antes de que el niño naciera, María y José tuvieron que viajar a Belén para cumplir una orden del emperador de roma.

En aquella época se viajaba a pie o en burro, por lo que los viajes eran muy largos y cansados.



## INSTITUCIÓN EDUCATIVA CATALINO GULFO

Cuando María y José llegaron a Belén, no encontraron un lugar donde quedarse. Entonces se refugiaron en un establo de animales y allí nació Jesús. María lo envolvió en pañales y como no tenía cuna, lo acostó en un pesebre.

### 1. Según lo escuchado responde:

**María y José tuvieron que viajar a:**

- A. Valencia
- B. Belén
- C. Montería
- D. Villanueva

### 2. ¿En qué lugar nació Jesús?

- A. En el hospital.
- B. En una clínica.
- C. En un establo.
- D. En la casa.

### 3. ¿Cómo se llaman los padres de Jesús?

- A. María y Pedro.
- B. José y Matilde.
- C. Raúl y María.
- D. José y María.

## Leer” El león y el ratón”

Saliendo de su agujero muy profundo, un ratoncillo fue a caer justo en las garras del león. El rey de los animales, demostrando su poder, le perdonó la vida. Su generosidad no fue en vano, porque ¿quién hubiera creído que el león pudiera necesitar un día de la gratitud de un sencillo ratoncillo? Sucedió que en cierta ocasión en que el león salió de su selva, cayó en unas redes, de las cuales no podía librarse con sus fuertes rugidos. Lo oyó el ratoncillo, y acudió al sitio. Trabajó tan bien con sus pequeños dientes, que una vez roída una malla, el león terminó de desgarrar la trama entera. En ciertos casos pueden más la paciencia y el tiempo que la ira y la fuerza. Y una buena acción, en algún momento, tiene su recompensa. (Esopo).

### 4. Uno de los valores que podemos aprender del texto es.

- A. La tolerancia.
- B. La honradez.
- C. La gratitud.
- D. El trabajo.

### 5. El anterior texto nos permite reconocer:

- A. Que los seres humanos nos necesitamos los unos de los otros.
- B. Que es posible vivir solo en la vida.
- C. Que no es bueno hacer favores a los demás.
- D. Todas las anteriores.