

REPÚBLICA DE COLOMBIA
DEPARTAMENTO DE CÓRDOBA
MUNICIPIO DE VALENCIA
INSTITUCIÓN EDUCATIVA CATALINO GULFO
RESOLUCIÓN No. 001630 20 DE SEPTIEMBRE DE 2002
RATIFICADA SEGÚN RESOLUCIÓN N°. 000529 DE DICIEMBRE 12 DE 2005
RUT. 812004059-8 DANE No. 323855000419
<http://catagul.edu.co/>

Voluntad y trabajo en equipo.

GUÍAS DE APRENDIZAJE

TERCERA ENTREGA

TERCER PERIODO

GRADO 1° _____

ESTUDIANTE: _____

LUNES 21 DE SEPTIEMBRE AL VIERNES 9 DE OCTUBRE DE 2020

INSTITUCIÓN EDUCATIVA CATALINO GULFO

EVALUACIÓN ACUMULATIVA.									
GRADO 1a	AREA: LENGUA CASTELLANA				FECHA: DEL 21 DE SEPTIEMBRE AL 02 DE OCTUBRE DE 2020				
DOCENTE	TULIA REDONDO PETRO								
CORREO:					TELEFONO:				
FICHA DE RESPUESTAS.									
1	2	3	4	5	6	7	8	9	10
(A)	(A)	(A)	(A)	(A)	(A)	(A)	(A)	(A)	(A)
(B)	(B)	(B)	(B)	(B)	(B)	(B)	(B)	(B)	(B)
(C)	(C)	(C)	(C)	(C)	(C)	(C)	(C)	(C)	(C)
(D)	(D)	(D)	(D)	(D)	(D)	(D)	(D)	(D)	(D)
ESTUDIANTE: _____									
Teniendo en cuenta la numeración de las preguntas, rellena el círculo con la opción de la respuesta seleccionada.									

ORIENTACIONES GENERALES. Estimado estudiante, teniendo en cuenta las habilidades y conocimientos adquiridos en el desarrollo de las guías anteriores, resuelve el siguiente cuestionario. El valor, interés y utilidad de esta evaluación quedan condicionados por la honestidad y sinceridad al momento de abordarla. Si cuentas con internet o datos puedes enviarme fotos o pantallazos de la ficha de respuestas diligenciadas al Whatsapp o al correo.

EVALUACIÓN ACUMULATIVA LENGUA CASTELLANA GRADO 1A

Primero, en cada pregunta marca la opción seleccionada con una X. Luego, en la parte superior FICHA DE RESPUESTAS, rellena el círculo con la opción correspondiente .

1. **BLANCA NIEVES ES UN CUENTO MUY HERMOSO, VAMOS A RECORDAR LA ESCRITURA CORECCTA DE ALGUNAS PALABRAS.**

SEÑALA LA ESCRITURA CORRECTA DE:

- A. MANAZAA
- B. AMANANZ
- C. MANZANA
- D. TODAS LAS ANTERIORES



- C. PALACIO
- D. APALCIO

4. **AL PRONUNCIAR LA PALABRA DE LA IMAGEN ABRO LA BOCA CUANTAS VECES?**

- A. UNA VEZ
- B. TRES VECES
- C. CUATRO VECES
- D. SEIS VECES



2. **LA PALABRA MANZANA TIENE?**

- A. DOS LETRAS
- B. SIETE LETRAS
- C. CINCO LETRAS
- D. UNA LETRA

5. **LA PALABRA DE LA IMAGEN EMPIEZA CON LA LETRA?**

- A. Z
- B. M
- C. R
- D. C



3. **ÉSTA IMAGEN SE ESBRIBE?**

- A. CIOPALA
- B. PALAIOC



INSTITUCIÓN EDUCATIVA CATALINO GULFO

6. CON QUIÉN SE CASÓ BLANCA NIEVES?

- A. CON EL LOBO
- B. CON EL PRINCIPE
- C. CON EL ESPEJO
- D. TODAS LAS ANTERIORES

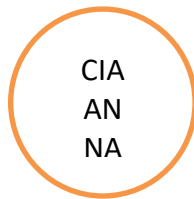
7. QUÉ DICE EN LA PALABRA DEL CIRCULO?

- A. .PUERTA
- B. REINA
- C. BOSQUE
- D. CANASTA



8. EN EL CIRCULO DICE?

- A. BOSQUE
- B. BLANCA NIEVES
- C. ANCIANA
- D. JARDÍN



9. OBSERVA LAS IMÁGENES.



LAS PALABRAS DE ESAS IMÁGENES EMPIEZAN CON LA LETRA?

- A. R
- B. P
- C. M
- D. B

10. QUÉ HACE DORITA?

La mosca Dorita

María Luisa Silva, chilena

La mosca Dorita no va ya a la escuela desde que vio tele ni siquiera vuela.

Parada en el medio de nuestra pantalla pasa todo el día sin pensar en nada.

No entiende de fútbol, le carga el ballet. Pero ahí instalada cualquier cosa ve.

Solo parpadea la mosca Dorita cuando yo le grito: ¡¡Mente de mosquita!!

LA MOSCA NO VA A LA ESCUELA PORQUE?

- A. SE LA PASA POR AHÍ SIN PENSAR EN NADA.
- B. ESTÁ TODO EL DIA PARPADEANDO.
- C. YA NO VUELA
- D. TODAS LAS ANTERIORES

INSTITUCIÓN EDUCATIVA CATALINO GULFO

EVALUACIÓN ACUMULATIVA.																											
GRADO 1	AREA: AGROPECUARIA	FECHA: DEL 21 DE SEPTIEMBRE AL 02 DE OCTUBRE. DE 2020																									
DOCENTE	TULIA ISABEL REDONDO PETRO																										
CORREO: isatul@hotmail.com .		TELEFONO: 3012258782																									
FICHA DE RESPUESTAS.																											
	<table border="1"><thead><tr><th>1</th><th>2</th><th>3</th><th>4</th><th>5</th></tr></thead><tbody><tr><td><input type="radio"/> A</td><td><input type="radio"/> A</td><td><input type="radio"/> A</td><td><input type="radio"/> A</td><td><input type="radio"/> A</td></tr><tr><td><input type="radio"/> B</td><td><input type="radio"/> B</td><td><input type="radio"/> B</td><td><input type="radio"/> B</td><td><input type="radio"/> B</td></tr><tr><td><input type="radio"/> C</td><td><input type="radio"/> C</td><td><input type="radio"/> C</td><td><input type="radio"/> C</td><td><input type="radio"/> C</td></tr><tr><td><input type="radio"/> D</td><td><input type="radio"/> D</td><td><input type="radio"/> D</td><td><input type="radio"/> D</td><td><input type="radio"/> D</td></tr></tbody></table>	1	2	3	4	5	<input type="radio"/> A	<input type="radio"/> A	<input type="radio"/> A	<input type="radio"/> A	<input type="radio"/> A	<input type="radio"/> B	<input type="radio"/> B	<input type="radio"/> B	<input type="radio"/> B	<input type="radio"/> B	<input type="radio"/> C	<input type="radio"/> C	<input type="radio"/> C	<input type="radio"/> C	<input type="radio"/> C	<input type="radio"/> D	<input type="radio"/> D	<input type="radio"/> D	<input type="radio"/> D	<input type="radio"/> D	
1	2	3	4	5																							
<input type="radio"/> A	<input type="radio"/> A	<input type="radio"/> A	<input type="radio"/> A	<input type="radio"/> A																							
<input type="radio"/> B	<input type="radio"/> B	<input type="radio"/> B	<input type="radio"/> B	<input type="radio"/> B																							
<input type="radio"/> C	<input type="radio"/> C	<input type="radio"/> C	<input type="radio"/> C	<input type="radio"/> C																							
<input type="radio"/> D	<input type="radio"/> D	<input type="radio"/> D	<input type="radio"/> D	<input type="radio"/> D																							
ESTUDIANTE: _____																											
Teniendo en cuenta la numeración de las preguntas, rellena el círculo con la opción de la respuesta seleccionada.																											

ORIENTACIONES GENERALES. Estimado estudiante, teniendo en cuenta Whatsapp o al correo.

EVALUACIÓN ACUMULATIVA DE AGROPECUARIA GRADO 1.

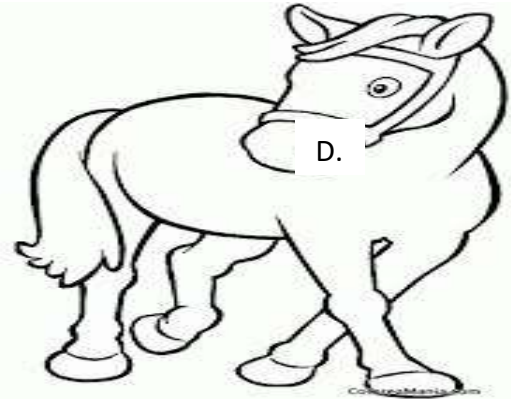
Primero, en cada pregunta marca la opción seleccionada con una X. Luego, en la parte superior FICHA DE RESPUESTAS, rellena el círculo con la opción que corresponda.

Recordemos: los animales pueden ser domésticos y salvajes.



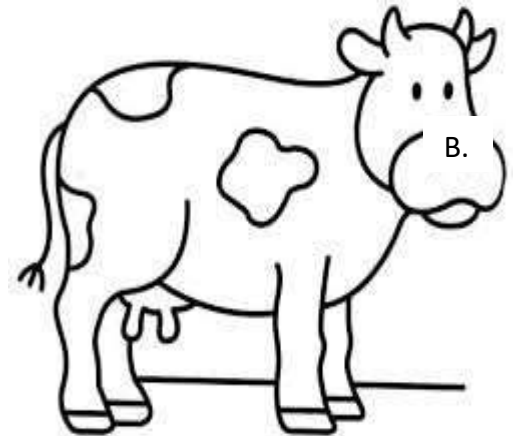

- Los animales pueden ser :
 - Negro o blancos
 - Grandes y valientes
 - Salvajes y domésticos
 - Buenos y malos
- Cuál de los siguientes animales son domésticos?
 - Serpiente y lobo
 - Tigre y león
 - Gallina y pato
 - Cocodrilo y tiburón
- Cuál de los siguientes animales son salvajes?
 - Perro y gato
 - Gallina y pavo
 - Loro y conejo
 - Tigre y pantera

INSTITUCIÓN EDUCATIVA CATALINO GULFO

4. Observa las imágenes y reconoce que animal es doméstico y coloréalo.



5.Cuál de estos animales es salvaje? Coloréalo.



“Recuerda usar el tapabocas y lavarte las manos con frecuencia”.

EXITOS ...

INSTITUCIÓN EDUCATIVA CATALINO GULFO

EVALUACIÓN ACUMULATIVA.							
GRADO: 1	AREA: ARTISTICA			FECHA: DEL 21 DE SEPTIEMBRE AL 02 DE OCTUBRE DE 2020			
DOCENTE	TULIA ISABEL REDONDO PETRO						
CORREO: isatul@hotmail.com .				TELEFONO: 3012258782			
FICHA		1	2	3	4	5	DE RESPUESTAS.
	A	⊕	⊕	⊕	⊕	⊕	
	B	⊕	⊕	⊕	⊕	⊕	
	C	⊕	⊕	⊕	⊕	⊕	
	D	⊕	⊕	⊕	⊕	⊕	
ESTUDIANTE: _____							
Teniendo en cuenta la numeración de las preguntas, rellena el círculo con la opción de la respuesta seleccionada.							

ORIENTACIONES GENERALES. Estimado estudiante, teniendo en cuenta la soltura y entendimiento adquiridos en el desarrollo de las guías anteriores, resuelve el siguiente cuestionario. El aprecio, beneficio y provecho de esta evaluación quedan condicionados por la dignidad y veracidad al momento de desarrollarla. Si cuentas con internet o datos puedes enviarme fotos o pantallazos de la ficha de respuestas diligenciadas al Whatsapp o al correo

EVALUACIÓN ACUMULATIVA DE ARTISTICA GRADO 1

Primero, en cada pregunta marca la opción seleccionada con una X. Luego, en la parte superior FICHA DE RESPUESTAS, rellena el círculo con la opción correspondiente

- 1.Cuál de los siguientes colores son primarios
 - A. Verde, amarillo, morado, blanco
 - B. Amarillo, azul, rojo, blanco, negro
 - C. Naranja, azul, negro, rojo
 - D. Violeta, amarillo, blanco, café
2. El plegado es una técnica que Se hacen con:
 - A. Hojas secas
 - B. Palos
 - C. Aluminio
 - D. Papel
3. Cuando mezclamos el color amarillo con el azul nos da:
 - a. Rojo. b. Morado. c. Verde. d. Naranja
4. 4. En el recortado de papel utilizamos los siguientes elementos
 - A. tijeras, colores, pintura
 - B. Papeles, tijeras,
 - C. Papel, tijeras, colores
 - D. Pinturas, hojas.

INSTITUCIÓN EDUCATIVA CATALINO GULFO

5. El dactilo pintura se hacen con:

- A. Pintura y pincel
- B. Pintura, y los dedos
- C. Colores y pintura
- D. Hojas y colores

...

6. La descomposición de una imagen es la:

- A. Descomposición o pedazos de papel
- B. Transformación de medios de una imagen para lograr tener otra
- C. Reunión de varias imágenes
- D. Coloración de un dibujo

7. De acuerdo a la imagen que materiales están utilizando



- A. Colores, papel
- B. Pinturas, colbón
- C. Pincel, pinturas
- D. Pincel, colores

8. Para hacer dactilo pintura utilizamos materiales como:

- A. Cuadros con pinturas
- B. Pies con colores
- C. Manos con pinturas
- D. Papeles con colores

INSTITUCIÓN EDUCATIVA CATALINO GULFO

EVALUACIÓN ACUMULATIVA.									
GRADO 1	AREA: TECNOLOGÍA E INFORMATICA					FECHA: DEL 21 DE SEPTIEMBRE AL 02 DE OCTUBRE DE 2020			
DOCENTE	TULIA ISABEL REDONDO PETRO								
CORREO: isatul@hotmail.com .					TELEFONO: 3012258782				
FICHA DE RESPUESTAS.									
1	2	3	4	5	6	7	8	9	10
(A)	(A)	(A)	(A)	(A)	(A)	(A)	(A)	(A)	(A)
(B)	(B)	(B)	(B)	(B)	(B)	(B)	(B)	(B)	(B)
(C)	(C)	(C)	(C)	(C)	(C)	(C)	(C)	(C)	(C)
(D)	(D)	(D)	(D)	(D)	(D)	(D)	(D)	(D)	(D)
ESTUDIANTE: _____									
Teniendo en cuenta la numeración de las preguntas, rellena el círculo con la opción de la respuesta seleccionada.									

ORIENTACIONES GENERALES.

Apreciados estudiantes, teniendo en cuenta tus habilidades y conocimientos adquiridos en el desarrollo de las guías del tercer periodo académico, resuelve el siguiente cuestionario. El valor e interés en la realización de esta evaluación quedan condicionados por la honestidad y sinceridad al momento de abordarlas. Si cuentas con internet o datos puedes enviarme fotos o pantallazos de la ficha de respuesta diligenciadas al whatsapp o al correo

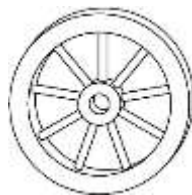
EVALUACIÓN ACUMULATIVA DE TECNOLOGÍA E INFORMATICA GRADO 1

Primero: en cada pregunta selecciona la opción según la afirmación dada y marca con una X. **Luego,** en la parte superior hay una FICHA DE RESPUESTAS, enumerada por preguntas rellena el círculo con la opción correspondiente.

1. Observa las imágenes e identifica el primer invento tecnológico que el hombre realizo; para utilizarlo en la alfarería y en el transporte terrestre.



A



B




C



D

INSTITUCIÓN EDUCATIVA CATALINO GULFO

Teniendo en cuenta que los vehículos son medios de transporte terrestre, que han venido evolucionando a través del tiempo y los avances de la tecnología. Observa las imágenes y responde las preguntas # 2 y 3.



A



B



C



D

2. El vehículo más antiguo que percibes:

A

B

C

D

3. El vehículo innovado (moderno, actualizado)

A

B

C

D

4. El medio de transporte acuático que muestra avances tecnológicos es:



A



B



C



D

5. Teniendo en cuenta los inventos y avances tecnológicos del hombre. Escoge el medio de transporte aéreo, más moderno.



A



B



C



D

¡EXITOS!

INSTITUCIÓN EDUCATIVA CATALINO GULFO

EVALUACIÓN ACUMULATIVA.									
GRADO: 1	AREA: MATEMATICAS				FECHA: DEL 21 DE SEPTIEMBRE AL 02 DE OCTUBRE DE 2020				
DOCENTE	TULIA ISABEL REDONDO PETRO								
CORREO: isatul@hotmail.com .					TELEFONO: 3012258782				
FICHA DE RESPUESTAS.									
1	2	3	4	5	6	7	8	9	10
(A)	(A)	(A)	(A)	(A)	(A)	(A)	(A)	(A)	(A)
(B)	(B)	(B)	(B)	(B)	(B)	(B)	(B)	(B)	(B)
(C)	(C)	(C)	(C)	(C)	(C)	(C)	(C)	(C)	(C)
(D)	(D)	(D)	(D)	(D)	(D)	(D)	(D)	(D)	(D)
ESTUDIANTE: _____									
Teniendo en cuenta la numeración de las preguntas, rellena el círculo con la opción de la respuesta seleccionada.									

ORIENTACIONES GENERALES. Estimado estudiante, teniendo en cuenta la soltura y entendimiento adquiridos en el desarrollo de las guías anteriores, resuelve el siguiente cuestionario. El aprecio, beneficio y provecho de esta evaluación quedan condicionados por la dignidad y veracidad al momento de desarrollarla. Si cuentas con internet o datos puedes enviarme fotos o pantallazos de la ficha de respuestas diligenciadas al WhatsApp o al correo.

EVALUACIÓN ACUMULATIVA DE MATEMATICA GRADO 1

Primero, en cada pregunta marca la opción seleccionada con una X. Luego, en la parte superior FICHA DE RESPUESTAS, rellena el círculo con la opción correspondiente.

1. Las figuras geométricas mas

Conocidas son:

- A. Casa, triangulo, rectángulo, circulo
- B. Triangulo, rectángulo, cuadrado, círculo.
- C. Rectángulo, circulo, casa, mesa.
- D. Cuadrado, mesa, triangulo, circulo.

2. El número 35 se descompone así

- A. 3 decenas y 5 unidades
- B. 3 centenas y 5 decenas
- C. 3 unidades y 5 centenas
- D. 3 decenas y 5 centenas

3. El número 78 se escribe así

- A. Setenta y cinco
- B. Ochenta y siete
- C. Setenta y ocho
- D. Setenta y seis

4. El resultado de las siguientes sumas $82 + 4 =$ $28 + 21 =$ $25 + 62 =$

- A. 76, 89, 65
- B. 82, 41, 78
- C. 78, 92, 76
- D. 86, 49, 87

INSTITUCIÓN EDUCATIVA CATALINO GULFO

5. Escoge el resultado correcto

De las siguientes sustracciones

$$99 - 32 \quad 96 - 24 \quad 58 - 16$$

- A. 76, 45, 37
- B. 58, 63, 26
- C. 67, 72, 42
- D. 51, 34, 23

6. En el siguiente problema que

Operación se utiliza.

En la biblioteca había 63 libros de Matemáticas, y el gobierno le dono Otros 34.¿ cuántos libros hay en Total?.

- A. Multiplicación
- B. sumas
- C. restas
- D División.

7. Los números que hacen falta en las siguientes tablas son:

+	19	31	57
9			
28			
25			

- A. 28, 40, 76, 47, 59, 85, 44, 66, 92

10. Los meses del año son:

- A. Enero, febrero, marzo, abril, mayo, mayo, junio, julio, agosto, septiembre, octubre, noviembre, diciembre
- B. Lunes, martes, abril, julio, septiembre, diciembre
- C. Jueves, viernes, marzo, mayo, octubre, noviembre
- D. Enero, marzo, domingo, sábado, abril, junio.

- B. 30, 67, 87, 68, 53, 96, 32, 76, 80
- C. 64, 35, 98, 43, 74, 91, 45, 83, 41
- D. 25, 43, 78, 46, 53, 81, 40, 69, 91


8. Piensa en el objeto real y encierra la afirmación correcta



- A. Pesa más de una libra
- B. Pesa menos de una libra
- C. Pesa más de un kilo
- D Peso menos de un kilo

9. La hora correcta que marca el reloj es:

- A. 12:30
- B. 8:00
- C. 7: 20
- D 5: 40



Todos juntos formamos una comunidad urbana que está en continuo cambio.

SUERTE.

¡Éxitos!

INSTITUCIÓN EDUCATIVA CATALINO GULFO

EVALUACIÓN ACUMULATIVA.									
GRADO 1	AREA: Inglés					FECHA: DEL 21 DE SEPTIEMBRE AL 02 DE OCTUBRE DE 2020			
DOCENTE	TULIA ISABEL REDONDO PETRO					TELEFONO: 3012258782			
CORREO: isatul@hotmail.com .									
FICHA DE RESPUESTAS.									
1	2	3	4	5	6	7	8	9	10
(A)	(A)	(A)	(A)	(A)	(A)	(A)	(A)	(A)	(A)
(B)	(B)	(B)	(B)	(B)	(B)	(B)	(B)	(B)	(B)
(C)	(C)	(C)	(C)	(C)	(C)	(C)	(C)	(C)	(C)
(D)	(D)	(D)	(D)	(D)	(D)	(D)	(D)	(D)	(D)
ESTUDIANTE: _____									
Teniendo en cuenta la numeración de las preguntas, rellena el círculo con la opción de la respuesta seleccionada.									

ORIENTACIONES GENERALES. Estimado estudiante, teniendo en cuenta las habilidades y conocimientos adquiridos en el desarrollo de las guías anteriores, resuelve el siguiente cuestionario. El valor, interés y utilidad de esta evaluación quedan condicionados por la honestidad y sinceridad al momento de abordarla. Si cuentas con internet o datos puedes enviarme fotos o pantallazos de la ficha de respuestas diligenciadas al WhatsApp o al correo.

EVALUACIÓN ACUMULATIVA INGLÉS GRADO 1

Primero, en cada pregunta marca la opción seleccionada con una X. Luego, en la parte superior FICHA DE RESPUESTAS, rellena el círculo con la opción correspondiente.

1. LA ESCRITURA CORRECTA DE LA IMAGEN ES?

- A. HAT
- B. HAM
- C. HAND
- D. JUG.



3. SEÑALA QUÉ NUMERO REPRESENTA EL DADO?

- A. TWO
- B. SIX
- C. ONE
- D. FOUR




2. LA IMAGEN REPRESENTA A LOS?

- A. NOSE
- B. HANDS
- C. EYES
- D. EARS



4. CUÁNTOS PETALOS TIENE ESA FLOR?

- A. TWO
- B. FIVE
- C. THREE
- D. ONE



INSTITUCIÓN EDUCATIVA CATALINO GULFO

5. SEÑALA LA CINTA QUE TIENE EN ORDEN
LOS NÚMEROS DEL 1 AL 4.

A.

ONE	THREE	TWO	FOUR
-----	-------	-----	------

B.

FOUR	THREE	TWO	ONE
------	-------	-----	-----

C.


ONE	TWO	THREE	FOUR
-----	-----	-------	------

D.

TWO	ONE	FOUR	THREE
-----	-----	------	-------

INSTITUCIÓN EDUCATIVA CATALINO GULFO

2. En el hogar deben existir buenas relaciones de convivencias, observa las imágenes y encuentra la que **no hace parte de ellas**.



3. Un grupo de estas palabras, representan los valores fundamentales en un hogar.

Respeto y Amor	Cariño y Solidaridad	Amistad y Perseverancia	Justicia y Libertad
A	B	C	D

Observa la ilustración y responde las preguntas número # 4 y 5



4. ¿Cómo consideras la actitud (la falta de convivencia) que demuestran el grupo de niños con su compañera?
- A. Buena B. Positiva C. Mala D. Regular
5. Si tú pertenecieras a ese grupo de compañeros de estudio ¿Qué harías para mejorar la convivencia con tu compañera?
- A. La aíslas
B. La ignoras
C. La rechazas
D. Dialogas y la invitas a participar

¡Éxitos!

INSTITUCIÓN EDUCATIVA CATALINO GULFO

EVALUACIÓN ACUMULATIVA.									
GRADO 1	AREA: NATURALES				FECHA: DEL 21 DE SEPTIEMBRE AL 02 DE OCTUBRE DE 2020				
DOCENTE	TULIA ISABEL REDONDO PETRO								
CORREO: isatul@hotmail.com .					TELEFONO: 3012258782				
FICHA DE RESPUESTAS.									
1	2	3	4	5	6	7	8	9	10
(A)	(A)	(A)	(A)	(A)	(A)	(A)	(A)	(A)	(A)
(B)	(B)	(B)	(B)	(B)	(B)	(B)	(B)	(B)	(B)
(C)	(C)	(C)	(C)	(C)	(C)	(C)	(C)	(C)	(C)
(D)	(D)	(D)	(D)	(D)	(D)	(D)	(D)	(D)	(D)
ESTUDIANTE: _____									
Teniendo en cuenta la numeración de las preguntas, rellena el círculo con la opción de la respuesta seleccionada.									

ORIENTACIONES GENERALES.

Apreciados estudiantes, teniendo en cuenta tus habilidades y conocimientos adquiridos en el desarrollo de las guías del tercer periodo académico, resuelve el siguiente cuestionario. El valor e interés en la realización de esta evaluación quedan condicionados por la honestidad y sinceridad al momento de abordarlas. Si cuentas con internet o datos puedes enviarme fotos o pantallazos de la ficha de respuesta diligenciadas al whatsapp o al correo

EVALUACIÓN ACUMULATIVA DE CIENCIAS NATURALES GRADO 1

Primero: en cada pregunta selecciona la opción según la afirmación dada y marca con una **X**.
Luego, en la parte superior hay una FICHA DE RESPUESTAS, enumerada por preguntas rellena el círculo con la opción correspondiente.

Teniendo en cuenta que nuestro cuerpo es un conjunto de estructuras físicas y de órganos que caracterizan el funcionamiento.

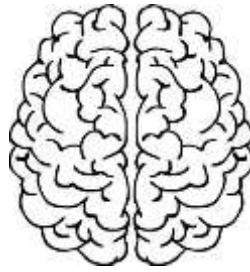
Observa la imagen y responde las preguntas # 1 y 2



1. La parte del cuerpo que nos permite trasladarnos de un lugar a otro:
 - A. La cabeza
 - B. Las extremidades superiores
 - C. El tronco
 - D. Las extremidades inferiores

INSTITUCIÓN EDUCATIVA CATALINO GULFO

2. Observa las imágenes e indica en que parte del cuerpo están ubicadas.



- A. Extremidades inferiores
- B. El tronco

- C. La cabeza
- D. Extremidades superiores

3. En las siguientes imágenes encontraras órganos que hacen parte del funcionamiento de nuestro cuerpo. Uno de ellos nos permiten “ la respiración “



A



B



C



D

4. Teniendo en cuenta las imágenes que representan el **ciclo de vida del ser humano**. Identifica la etapa por la que estás pasando (niñez)



A



B



C



D

INSTITUCIÓN EDUCATIVA CATALINO GULFO

5. Yo identifico mi sexo; porque pertenezco al género:

- A. Femenino B. Masculino – Femenino C. Masculino D. Femenino Masculino

6. El “Aseo personal”, es la clave fundamental de la higiene de nuestro cuerpo.
Una de estas ilustraciones no hace parte de la higiene personal.



A



B



C



D

7. En esta época de pandemia, quiero evitar contagiarme con el virus, por eso debo cuidar mi cuerpo ¿cuál imagen no te ayuda a cuidarlo?



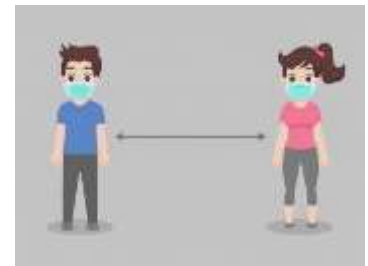
A



B




C




D

8. Hay personas que consumen alimentos saludables y otras, no saludables.
Observa las imágenes e identifica quien come **alimentos no saludables**:

INSTITUCIÓN EDUCATIVA CATALINO GULFO



9. El siguiente gráfico es un árbol genealógico.



Este árbol representa el grupo de:

- A. Los amigos
- B. Del equipo de trabajo
- C. Los compañeros de estudio
- D. La familia

10. Uno de estos individuos **NO** forma parte de mi árbol genealógico

- A. Papas
- B. Abuelos
- C. Amigos
- D. Hermanos

¡EXITOS!

INSTITUCIÓN EDUCATIVA CATALINO GULFO

EVALUACIÓN ACUMULATIVA.						
GRADO 1	AREA: RELIGIÓN	FECHA: DEL 21 DE SEPTIEMBRE AL 02 DE OCTUBRE. DE 2020				
DOCENTE	TULIA ISABEL REDONDO PETRO	TELEFONO: 3012258782				
CORREO: isatul@hotmail.com .						
FICHA DE RESPUESTAS.						
1	2	3	4	5	6	7
(A)	(A)	(A)	(A)	(A)	(A)	(A)
(B)	(B)	(B)	(B)	(B)	(B)	(B)
(C)	(C)	(C)	(C)	(C)	(C)	(C)
(D)	(D)	(D)	(D)	(D)	(D)	(D)
ESTUDIANTE: _____						
Teniendo en cuenta la numeración de las preguntas, rellena el círculo con la opción de la respuesta seleccionada.						

ORIENTACIONES GENERALES. Estimado estudiante, teniendo en cuenta las habilidades y conocimientos adquiridos en el desarrollo de las guías anteriores, resuelve el siguiente cuestionario. El valor, interés y utilidad de esta evaluación quedan condicionados por la honestidad y sinceridad al momento de abordarla. Si cuentas con internet o datos puedes enviarme fotos o pantallazos de la ficha de respuestas diligenciadas al Whatsapp o al correo.

EVALUACIÓN ACUMULATIVA DE RELIGION GRADO 1

Primero, en cada pregunta marca la opción seleccionada con una X. Luego, en la parte superior FICHA DE RESPUESTAS, rellena el círculo con la opción correspondiente.

1. LEE LA NIÑA MISIONERA.

PIDO A MI FAMILIA QUE ME LEA LA SIGUIENTE HISTORIA.

Karina pertenecía al grupo de infancia misionera era una de las más comprensivas y tiernas en el grupo; oraba con mucho amor a Dios era muy querida por sus amigos y padres. Tenía una alcancía donde ahorraba para ayudar a los niños pobres del mundo.

Cuando tenía diez años enfermó gravemente y murió; como sus acciones fueron buenas pasó a una nueva vida al lado de Jesús, pero antes de morir dijo a su mamá.

Tengo un alcancía en el closet, todo cuanto tiene es para los niños más pobres, por ello ofrezco mi vida para que conozcan a Jesús y lo amen.

- **¿Karina pertenecía al grupo de?**

- Bailes de la Institución
- Infancia Misionera.
- Reinados de la papaya
- Todas las anteriores.

2. **¿Karina era una niña?**

- Comprensiva y tierna
- Egoísta y tierna
- Solidaria y peleona
- Todas las anteriores

INSTITUCIÓN EDUCATIVA CATALINO GULFO

3. ¿Karina ahorró para?

- a. Comprarse un vestido.
- b. Darle la plata en navidad a su papá.
- c. Arreglar la bicicleta.
- d. Los niños más pobres del mundo.

4. Por ser buena niña se fue al?

- a. Zoológico
- b. Cine
- c. Cielo
- d. Todas las anteriores.

5. ¿Para vivir en comunidad, para cultivar la amistad y para superar nuestras dificultades, estos valores los aprendemos en?

- a. Los vecinos
- b. La familia
- c. Los paseos.
- d. Todas las anteriores.

6. ¿La familia es nuestra primera?

- a. Cama
- b. Escuela
- c. Bicicleta
- d. Todas las anteriores

7. Damos gracias a Dios por toda la Creación, pero hay cosas que el NO creó .Cuales son:

- a. Rio
- b. Estrella
- c. Montaña
- d. Lápiz.

INSTITUCIÓN EDUCATIVA CATALINO GULFO

EVALUACIÓN ACUMULATIVA.																											
GRADO 1	AREA: educación física	FECHA: DEL 21 DE SEPTIEMBRE AL 02 DE OCTUBRE. DE 2020																									
DOCENTE	TULIA ISABEL REDONDO PETRO	TELEFONO: 3012258782																									
CORREO: isatul@hotmail.com .																											
FICHA DE RESPUESTAS.																											
	<table border="1"><thead><tr><th>1</th><th>2</th><th>3</th><th>4</th><th>5</th></tr></thead><tbody><tr><td>(A)</td><td>(A)</td><td>(A)</td><td>(A)</td><td>(A)</td></tr><tr><td>(B)</td><td>(B)</td><td>(B)</td><td>(B)</td><td>(B)</td></tr><tr><td>(C)</td><td>(C)</td><td>(C)</td><td>(C)</td><td>(C)</td></tr><tr><td>(D)</td><td>(D)</td><td>(D)</td><td>(D)</td><td>(D)</td></tr></tbody></table>	1	2	3	4	5	(A)	(A)	(A)	(A)	(A)	(B)	(B)	(B)	(B)	(B)	(C)	(C)	(C)	(C)	(C)	(D)	(D)	(D)	(D)	(D)	
1	2	3	4	5																							
(A)	(A)	(A)	(A)	(A)																							
(B)	(B)	(B)	(B)	(B)																							
(C)	(C)	(C)	(C)	(C)																							
(D)	(D)	(D)	(D)	(D)																							
ESTUDIANTE: _____																											
Teniendo en cuenta la numeración de las preguntas, rellena el círculo con la opción de la respuesta seleccionada.																											

ORIENTACIONES GENERALES. Estimado estudiante, teniendo en cuenta las habilidades y conocimientos adquiridos en el desarrollo de las guías anteriores, resuelve el siguiente cuestionario. El valor, interés y utilidad de esta evaluación quedan condicionados por la honestidad y sinceridad al momento de abordarla. Si cuentas con internet o datos puedes enviarme fotos o pantallazos de la ficha de respuestas diligenciadas al Whatsapp o al correo.

EVALUACIÓN ACUMULATIVA DE EDUCACION FISICA GRADO 1

Primero, en cada pregunta marca la opción seleccionada con una X. Luego, en la parte superior FICHA DE RESPUESTAS, rellena el círculo con la opción correspondiente.

A partir del tema “patrones de manipulación” (recibir, golpear, lanzar, atrapar, golpear, empujar levantar un objeto), lee con atención los enunciados y responde.

1. Son patrones de manipulación:

- a) barrer-dormir.
- b) recibir-lanzar.
- c) estudiar –mirar.
- d) correr- viajar.

2. Con que elementos puedes realizar una actividad de manipulación?

- a) balón –raqueta.
- b) bolso –peinilla.
- c) moneda –silla.
- d) sombrilla –cuaderno.

INSTITUCIÓN EDUCATIVA CATALINO GULFO

3. Observa las imágenes e identifica cual pertenece a un patrón de manipulación.



A.



B.



C.



D.

4. Teniendo en cuenta los patrones de manipulación cuál de ellos practicas más en casa?

- a) Lanzar.
- b) Atrapar.
- c) Batear.
- d) Halar.

5.Cuál de las imágenes no es un patrón de manipulación?



A



B



C



D

“Recuerda lavarte las manos “.

EXITOS.

}

INSTITUCIÓN EDUCATIVA CATALINO GULFO

EVALUACIÓN ACUMULATIVA.									
GRADO 1	AREA: C. SOCIALES					FECHA: DEL 21 DE SEPTIEMBRE AL 02 DE OCTUBRE DE 2020			
DOCENTE	TULIA ISABEL REDONDO PETRO								
CORREO: isatul@hotmail.com .					TELEFONO: 3012258782				
FICHA DE RESPUESTAS.									
1	2	3	4	5	6	7	8	9	10
(A)	(A)	(A)	(A)	(A)	(A)	(A)	(A)	(A)	(A)
(B)	(B)	(B)	(B)	(B)	(B)	(B)	(B)	(B)	(B)
(C)	(C)	(C)	(C)	(C)	(C)	(C)	(C)	(C)	(C)
(D)	(D)	(D)	(D)	(D)	(D)	(D)	(D)	(D)	(D)
ESTUDIANTE: _____									
Teniendo en cuenta la numeración de las preguntas, rellena el círculo con la opción de la respuesta seleccionada.									

ORIENTACIONES GENERALES.

Apreciados estudiantes, teniendo en cuenta tus habilidades y conocimientos adquiridos en el desarrollo de las guías del tercer periodo académico, resuelve el siguiente cuestionario. El valor e interés en la realización de esta evaluación quedan condicionados por la honestidad y sinceridad al momento de abordarlas. Si cuentas con internet o datos puedes enviarme fotos o pantallazos de la ficha de respuesta diligenciadas al whatsapp o al correo

EVALUACIÓN ACUMULATIVA DE CIENCIAS SOCIALES GRADO 1

Primero: en cada pregunta selecciona la opción según la afirmación dada y marca con una **X**.
Luego, en la parte superior hay una FICHA DE RESPUESTAS, enumerada por preguntas rellena el círculo con la opción correspondiente.

Teniendo en cuenta que nuestro municipio es Valencia y todas sus características, lee bien los enunciados con ayuda de papa o mama, para responder bien lo que se te pregunte.

1. Mi municipio lleva por nombre :
 - A. Montería
 - B. Tierralta
 - C. Valencia
 - D. Lorica.
2. El Municipio de Valencia queda en el Departamento de :
 - A. Atlántico
 - B. Antioquia
 - C. Choco
 - D. Córdoba.

INSTITUCIÓN EDUCATIVA CATALINO GULFO

3. El nombre del Alcalde de nuestro Municipio es :
 - A. Juan Martínez
 - B. Luis López
 - C. Mario Atencio
 - D. José Díaz

4. Son barrios de Valencia:
 - A. Tierralta y Cerete
 - B. La pradera y panamá
 - C. Jaraguay y Nazareth
 - D. Santa Fe y San Pedro

5. Es un fundador de nuestro Municipio:
 - A. Simón Bolívar
 - B. Catalino Gulfo
 - C. José Córdoba
 - D. Manuel Gallego

6. El nombre del Rio que baña a Valencia es:
 - A. San Jorge
 - B. Guatapuri
 - C. Sinú
 - D. Magdalena

7. El Autor del himno del Municipio es :
 - A. Manuel Soto
 - B. Carmen Sejin
 - C. Luis Morales
 - D. Aníbal Medrano

8. Nombre del diseñador de la bandera de Valencia:
 - A. Gabriel Suarez
 - B. Juan Pérez
 - C. Pedro Cogollo
 - D. Matilde López

9. Observa los escudos e identifica el del Municipio de Valencia.



A.



B.



C.



D.

INSTITUCIÓN EDUCATIVA CATALINO GULFO

10. Cuál de los siguientes paisajes pertenece a tu municipio Valencia?



A.



B.



C.



D.

“EXITOS “

“No se te olvide lavarte las manos “