

REPÚBLICA DE COLOMBIA  
DEPARTAMENTO DE CÓRDOBA  
MUNICIPIO DE VALENCIA  
INSTITUCIÓN EDUCATIVA CATALINO GULFO  
RESOLUCIÓN No. 001630 20 DE SEPTIEMBRE DE 2002  
RATIFICADA SEGÚN RESOLUCIÓN N°. 000529 DE DICIEMBRE 12 DE 2005  
RUT. 812004059-8 DANE No. 323855000419  
<http://catagul.edu.co/>

*Voluntad y trabajo en equipo.*

# GUÍAS EVALUATIVAS

## 3<sup>a</sup> ENTREGA

### PERIODO I

ESTUDIANTE: \_\_\_\_\_

Del 23 de marzo al 05 de abril

2021

# GRADO 1º

## INSTITUCIÓN EDUCATIVA CATALINO GULFO


EVALUACIÓN ACUMULATIVA.									
GRADO 1	AREA: MATEMATICAS	FECHA: DEL 23 DEMARZO AL 05 DE ABRIL DEL 2021							
DOCENTE	RODRIGO MARTINEZ DURANGO SHIRLY VIDAL GREGORIA ARTEAGA DIANA NEGRETE								
CORREO: <a href="mailto:rodrigomartinez3060@hotmail.com">rodrigomartinez3060@hotmail.com</a> <a href="mailto:Chivapa30@hotmail.com">Chivapa30@hotmail.com</a> <a href="mailto:Gregoriaam.71@gmail.com">Gregoriaam.71@gmail.com</a> <a href="mailto:Pachito2409@hotmail.com">Pachito2409@hotmail.com</a>		TELEFONO: 3234587258 3135623143 3148843908							
FICHA DE RESPUESTAS.									
1	2	3	4	5	6	7	8	9	10
(A)	(A)	(A)	(A)	(A)	(A)	(A)	(A)	(A)	(A)
(B)	(B)	(B)	(B)	(B)	(B)	(B)	(B)	(B)	(B)
(C)	(C)	(C)	(C)	(C)	(C)	(C)	(C)	(C)	(C)
(D)	(D)	(D)	(D)	(D)	(D)	(D)	(D)	(D)	(D)
ESTUDIANTE: _____									
Teniendo en cuenta la numeración de las preguntas, rellena el círculo con la opción de la respuesta seleccionada.									

**ORIENTACIONES GENERALES.** Apreciados estudiantes saludos, teniendo en cuenta de tus capacidades, habilidades y disciplina que has demostrado con la realización de las guías anteriores, hoy nuevamente te invito a resolver este cuestionario. Esta evaluación la realizamos poniendo en práctica tus conocimientos adquiridos con la primera y segunda guía entregada. Si tienes internet o datos, favor enviarme fotos o pantallazos de la ficha de respuestas diligenciadas a mi WhatsApp o al correo, lo anterior con el propósito de revisar el cuestionario.

### EVALUACIÓN ACUMULATIVA DE MATEMATICAS GRADO 1

**Primero:** en cada pregunta selecciona la opción según la afirmación dada y marca con una **X**.  
**Luego,** en la parte superior hay una FICHA DE RESPUESTAS, enumerada por preguntas rellena el círculo con la opción correspondiente.

- ✓ Teniendo en cuenta el libro de matemáticas grado primero situación 1,2,3 responde las siguientes preguntas.
1. La ficha representa el numero



- A. 3
- B. 9
- C. 5
- D. 7


2. Observa las manos detenidamente y mira el número de dedos que nos están representando en esa operación.

# INSTITUCIÓN EDUCATIVA CATALINO GULFO



- A. 5
- B. 7
- C. 9
- D. 8

3. El número que representa la cantidad de triángulos es




- A. 8
- B. 10
- C. 11
- D. 6

4. El número que representa el siguiente par de dados es:



- A. 9
- B. 12
- C. 7
- D. 10

5. Observa los siguientes conjuntos e indica que número nos representa el total de sus elementos.




- A. 10
- B. 8
- C. 6
- D. 11

6. Qué números nos representa el siguiente conjunto.



- A. 5
- B. 7
- C. 4
- D. 2

7. El número de puntos que nos representan los dados es igual a:



- A. 9
- B. 6
- C. 2
- D. 5

8. El siguiente conjunto de balones representa el número:



## INSTITUCIÓN EDUCATIVA CATALINO GULFO

- A. 7
- B. 9
- C. 8
- D. 6

9. En la siguiente secuencia cuál es el número que corresponde en el cuadro de la interrogación.

**1-2-3-?-5-6**

- A. 2
- B. 4
- C. 7
- D. 1

10. Mi grupo familiar es de hay 4 personas ¿Cuántos ojos en total tenemos?

- A. 4
- B. 8
- C. 2
- D. 10

## INSTITUCIÓN EDUCATIVA CATALINO GULFO

EVALUACIÓN ACUMULATIVA.									
GRADO 1	AREA: LENGUA CASTELLANA				FECHA: DEL 23 DEMARZO AL 05 DE ABRIL DEL 2021				
DOCENTES	Rodrigo Martínez Shirley Vidal Gregoria Arteaga Diana Negrete								
CORREO: <a href="mailto:Rodrigomartinez3060@hotmail.com">Rodrigomartinez3060@hotmail.com</a> <a href="mailto:Chivipa30@hotmail.com">Chivipa30@hotmail.com</a> <a href="mailto:Gregoriaam.71@gmail.com">Gregoriaam.71@gmail.com</a> Pachito2409@hotmail.com					TELEFONO:3234587258 3234630546 3148843908 3116124247				
FICHA DE RESPUESTAS.									
1	2	3	4	5	6	7	8	9	10
(A)	(A)	(A)	(A)	(A)	(A)	(A)	(A)	(A)	(A)
(B)	(B)	(B)	(B)	(B)	(B)	(B)	(B)	(B)	(B)
(C)	(C)	(C)	(C)	(C)	(C)	(C)	(C)	(C)	(C)
(D)	(D)	(D)	(D)	(D)	(D)	(D)	(D)	(D)	(D)
ESTUDIANTE: _____									
Teniendo en cuenta la numeración de las preguntas, rellena el círculo con la opción de la respuesta seleccionada.									

**ORIENTACIONES GENERALES.** Apreciados estudiantes saludos, teniendo en cuenta de tus capacidades, habilidades y disciplina que has demostrado con la realización de las guías anteriores, hoy nuevamente te invito a resolver este cuestionario. Esta evaluación la realizamos poniendo en práctica valores como (honestidad, responsabilidad), el interés y compromiso. Si tienes internet o datos, favor enviarme fotos o pantallazos de la ficha de respuestas diligenciadas a mi WhatsApp o al correo, lo anterior con el propósito de revisar el cuestionario.

### EVALUACIÓN ACUMULATIVA DE LENGUA CASTELLANA GRADO 1

**Primero:** en cada pregunta selecciona la opción según la afirmación dada y marca con una **X**.  
**Luego,** en la parte superior hay una FICHA DE RESPUESTAS, enumerada por preguntas rellena el círculo con la opción correspondiente.

- ✓ Teniendo en cuenta, el cuento de ADELA, LA ARDILLA AMISTOSA de tu libro Aprendamos todos a leer 1 en las páginas 6- 7. Pídele a tus padres que te vuelvan a leer y analízalo nuevamente. Responde las preguntas número 1 – 2 – 3 – 4.

- Responde de acuerdo a la historia  
--- Cual es el título.
  - Adela y el ratón
  - Adela, la ardilla amistosa
  - Adela y el caballo
  - Adela y el perro

- Observa las imágenes e identifica el personaje principal de la historia.



A      B      C      D

- Marca la respuesta correcta:

\_\_\_ Que animal es Adela

- Perro.
- Ratón.

## INSTITUCIÓN EDUCATIVA CATALINO GULFO

- C. Caballo.  
D. Ardilla.
4. En la historia Adela tiene tres hermanas que son:  
A. Andrea, Ana y Amelia.  
B. Andrea, Camila y María.  
C. Ana, Teresa y Amelia.  
D. Amelia, Camila y María.
5. Marca las palabras que tengan la vocal a.  
A. Iris, Negro, Rojo y como.  
B. Nariz, Ardilla, Aguja y Avión  
  
C. Cielo, Pies, Primero y leyendo.  
D. Rojo, Comprendo, Oro y Plomo.
- Ahora pídele a tus padres que te lean nuevamente la historia de **Enrique, el erizo estudioso.** Páginas 8- 9. y Responde las preguntas número 5 y 6.
- 6.Cuál es el título de la historia.  
A. Enrique el travieso.  
B. Enrique el bueno  
C. Enrique, el erizo estudioso.  
D. Enrique el misterioso.
7. Observa la imagen y marca a que parte de la historia se refiere
- ingeniosa paginas 10\_ 11 y marca la respuesta correcta.  
\_\_\_ Que animal es Irene.  
A. Bagre.  
B. Tortuga.  
C. Zorra.  
D. Iguana.
9. Pídele a tus padres que te vuelvan a leer las historias de OCTAVIO EL PEREZOSO paginas 12- 13 y URSULA, LA URRACA UNICA paginas 14- 15 y marca las opciones correctas.  
■ Que animales son Octavio y Úrsula.  
A. Un oso y una urraca  
B. Un pájaro y una jirafa  
C. Un gato y una iguana  
D. Un león y una pantera
10. Las vocales son:  
A. b, a, d, i, k.  
B. i, c, u, d, b.  
C. e, d, o, u, k.  
D. a, e, i, o, u.



- A. Enrique le gusta mucho jugar.  
B. Enrique le gusta mucho cantar.  
C. Enrique le gusta estudiar.  
D. Enrique le gusta mucho cantar.
8. Pídele a tus padres que te vuelvan a leer la historia de Irene, La iguana

GRACIAS Y  
BENDICIONES.

## INSTITUCIÓN EDUCATIVA CATALINO GULFO

c GUIA MULTIDISCIPLINAR DE <span style="float: right;">No 2.</span>									
GRADO	ÁREAS: TODAS			FECHA. 23 DE MARZO al 05 de abril 2021					
DOCENTE		GRAD	CORREO				TELEFONO		
RODRIGO DURANGO MARTÍNEZ		1 A	rodrigomartinez3060@hotmail.				3234587258		
SHIRLEY VIDAL PARRA		1 B	<a href="mailto:chivipa30@hotmail.com">chivipa30@hotmail.com</a>				3135623143		
GREGORIA ARTEAGA		1 C	gregoriaam.71@gmail.com				3148843908		
DIANA NEGRETE URANGO		1 D	<a href="mailto:pachito2409@hotmail.com">pachito2409@hotmail.com</a>				3116124247		
NOMBRE Y APELLIDOS COMPLETOS DELESTUDIANTES						GRUPO			
1	2	3	4	5	6	7	8	9	10
(A)	(A)	(A)	(A)	(A)	(A)	(A)	(A)	(A)	(A)
(B)	(B)	(B)	(B)	(B)	(B)	(B)	(B)	(B)	(B)
(C)	(C)	(C)	(C)	(C)	(C)	(C)	(C)	(C)	(C)
(D)	(D)	(D)	(D)	(D)	(D)	(D)	(D)	(D)	(D)

**ORIENTACIONES GENERALES.** Apreciados estudiantes saludos, teniendo en cuenta de tus capacidades, habilidades y disciplina que has demostrado con la realización de las guías anteriores, hoy nuevamente te invito a resolver este cuestionario. Esta evaluación la realizamos con ayuda de tus papitos poniendo en práctica valores como (honestidad, responsabilidad), el interés y compromiso. Si tienes internet o datos, favor enviarme fotos o pantallazos de la ficha de respuestas diligenciadas a mi WhatsApp o al correo, lo anterior con el propósito de revisar el cuestionario.

### EVALUACIÓN ACUMULATIVA DE CIENCIAS NATURALES GRADO 1

**Primero:** en cada pregunta selecciona la opción según la afirmación dada y marca con una **X**.  
**Luego,** en la parte superior hay una FICHA DE RESPUESTAS, enumerada por preguntas rellena el círculo con la opción correspondiente

- ✓ Con ayuda de tus papitos Paseas nuevamente por el campo o patio de tu casa y observas lo que te rodea, que hay seres vivos y objetos inertes.  
 Responde de acuerdo a lo que observaste.

- B. Casa, carro, alimento.
- C. Animales, sillas, plantas.
- D. Agua, rocas, dinero.

1. Son seres vivos:

- A. Mesa, sillas, gallinas.
- B. Gallinas, hormigas, plantas.
- C. Piedras, agua, niños.
- D. Árbol, bicicleta, ropa.

----- Sabes que los órganos de los sentidos son 5: vista, olfato, gusto, oído y tacto o tu piel que por medio de ella sabemos si hace

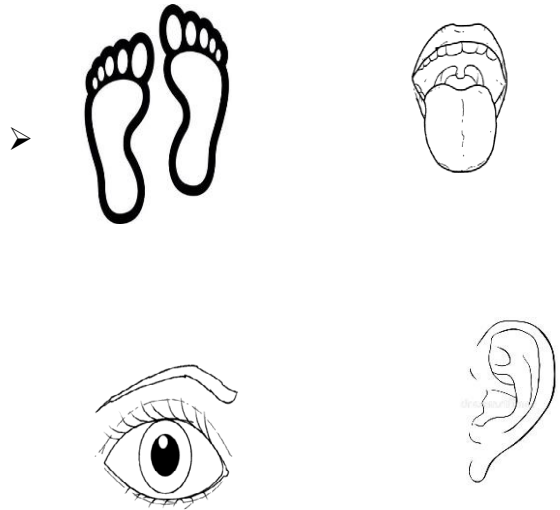
2. Que necesitan los seres vivos para vivir:

- A. Sol, agua, aire.

## INSTITUCIÓN EDUCATIVA CATALINO GULFO

frio o calor y sabemos las texturas de las cosas. Colorea.

 <b>OBSERVA</b>	<b>VISTA:</b> para ver usamos los ojos. 
<b>OÍDOS:</b> para escuchar usamos los oídos. 	<b>OLFATO:</b> para sentir los aromas usamos la nariz. 
<b>TACTO:</b> con la piel sentimos los objetos. 	<b>GUSTO:</b> para sentir los sabores usamos la lengua. 



3. Por medio del tacto sabemos si el hielo es:
  - A. Áspero.
  - B. Caliente.
  - C. Frio.
  - D. Suave.
  
4. Con la vista podemos percibir los:
  - A. Olores .
  - B. Sabores .
  - C. Colores.
  - D. Texturas.
  
5. El sentido del oído permite identificar:
  - E. Los sabores.
  - F. Los olores.
  - G. Los colores.
  - H. Los sonidos y voces.
  
6. Que órgano de los sentidos necesitas para saber si el café esta dulce o amargo:
  - a. Vista.
  - b. Oído.
  - c. Tacto.
  - d. Gusto.
  
- 7.Cuál de estas imágenes no es uno de los órganos de los sentidos:

8. Como puedo cuidar mis órganos de los sentidos?

- A. comiendo muchos dulces.
- B. Introduciendo objetos extraños
- C. Debemos consumir alimentos sanos.
- D. No me lavo las manos.

9. Los órganos de los sentidos son:

- A. 2.
- B. 3.
- C. 6.
- D. 5.

10. Observa; según la imagen la niña huele una flor, ¿qué órgano de los sentidos utiliza para saber si la flor tiene un aroma agradable?










## INSTITUCIÓN EDUCATIVA CATALINO GULFO

- A. El olfato.
- B. La vista.
- C. El gusto.
- D. El oído.

### 2.- UNE TUS SENTIDOS CON SU RESPECTIVO NOMBRE

Vista ●	●	
Olfato ●	●	
Tacto ●	●	
Oído ●	●	
Gusto ●	●	

RECUERDA:

Debemos cuidar nuestros órganos de los sentidos!!!

¡Éxitos!

## INSTITUCIÓN EDUCATIVA CATALINO GULFO

EVALUACIÓN ACUMULATIVA.									
GRADO 1	AREA: CIENCIAS SOCIALES				FECHA: DEL 23 DE MARZO AL 05 DE ABRIL DEL 2021				
DOCENTES	RODRIGO MARTINEZ SHIRLY VIDAL GREGORIA ARTEAGA DIANA NEGRETE								
CORREO: <a href="mailto:Rodrigomartinez3060@hotmail.com">Rodrigomartinez3060@hotmail.com</a> <a href="mailto:Chivapa30@hotmail.com">Chivapa30@hotmail.com</a> <a href="mailto:Gregoriaam.71@gmail.com">Gregoriaam.71@gmail.com</a> <a href="mailto:Pachito2409@hotmail.com">Pachito2409@hotmail.com</a>					TELEFONO: 3234587258 3135623143 3148843908 3116124247				
FICHA DE RESPUESTAS.									
1	2	3	4	5	6	7	8	9	10
(A)	(A)	(A)	(A)	(A)	(A)	(A)	(A)	(A)	(A)
(B)	(B)	(B)	(B)	(B)	(B)	(B)	(B)	(B)	(B)
(C)	(C)	(C)	(C)	(C)	(C)	(C)	(C)	(C)	(C)
(D)	(D)	(D)	(D)	(D)	(D)	(D)	(D)	(D)	(D)
ESTUDIANTE: _____									
Teniendo en cuenta la numeración de las preguntas, rellena el círculo con la opción de la respuesta seleccionada.									

**ORIENTACIONES GENERALES.** Apreciados estudiantes saludos, teniendo en cuenta de tus capacidades, habilidades y disciplina que has demostrado con la realización de las guías anteriores, hoy nuevamente te invito a resolver este cuestionario. Esta evaluación la realizamos poniendo en práctica tus conocimientos adquiridos con la primera y segunda guía entregada. Si tienes internet o datos, favor enviarme fotos o pantallazos de la ficha de respuestas diligenciadas a mi WhatsApp o al correo, lo anterior con el propósito de revisar el cuestionario.

### EVALUACIÓN ACUMULATIVA DE CIENCIAS SOCIALES GRADO 1

**Primero:** en cada pregunta selecciona la opción según la afirmación dada y marca con una **X**.  
**Luego,** en la parte superior hay una FICHA DE RESPUESTAS, enumerada por preguntas rellena el círculo con la opción correspondiente.



- |   |   |
|---|---|
| <p>1. ¿por qué es importante compartir con tu familia?</p> <p>A. Para escuchar y tomar decisiones familiares.</p> <p>B. Para inventar recetas</p> | <p>C. Para salir al campo</p> <p>D. Para montar bicicleta.</p> <p>2. Mis padres son importantes para mí ¿por qué?</p> |
|---|---|

## INSTITUCIÓN EDUCATIVA CATALINO GULFO

- A. Porque me dan dinero  
B. Porque me apoyan y me quieren  
C. Porque me refieren cuentos  
D. Para no estar solos
3. Al participar en eventos o actividades, primero es:
- A. Mis amigos  
B. Mi grupo de barrio  
C. Los vecinos  
D. Mi familia
4. Algunas actividades en familia ayudan a fortalecer los lazos de unión. Excepto:
- A. El amor  
B. El respeto  
C. La tolerancia  
D. Criticar
5. ¿por qué crees que es importante que tus padres estén en casa? Excepto:
- A. Para dialogar  
B. Para compartir actividades  
C. Para maltratarlos  
D. Para la recreación
6. Los niños en la familia tienen los siguientes derechos excepto a:
- A. Derecho a la educación  
B. Derecho a la salud  
C. Derecho a la recreación  
D. Derecho a gritar a sus padres
7. Algunos deberes de los niños son excepto:
- A. Estudiar
- B. Jugar  
C. Respetar a sus padres  
D. Insultar a sus amigos
8. Mis amigos me convidan para divertiros en el parque ¿A quién debo solicitar permiso para ir?
- A. A Luis mi compañero de grado  
B. A mis padres  
C. Me voy sin pedir permiso  
D. A Roberto el vecino
9. Primero mi familia porque me permiten compartir actividades excepto:
- A. Encontrar apoyo  
B. Crecer  
C. Dialogar  
D. Salir sin permiso
10. Me llamo Luis y mis padres son Oscar y Ana, tengo un primo que se llama Alberto que su padre es hermano de mi madre. ¿Qué vínculo familiar tiene mi madre con Alberto?
- A. Abuela  
B. Tía  
C. Prima  
D. Sobrina

**Derechos  
y deberes**

## INSTITUCIÓN EDUCATIVA CATALINO GULFO

EVALUACIÓN ACUMULATIVA.				
GRADO 1	ÁREA: RELIGION	FECHA: DEL 23 DE MARZO AL 5 DE ABRIL DE 2021		
DOCENTES	RODRIGO MARTINEZ SHIRLY VIDAL GREGORIA ARTEAGA DIANA NEGRETE			
CORREO: <a href="mailto:Rodrigomartinez3060@hotmail.com">Rodrigomartinez3060@hotmail.com</a> <a href="mailto:Chivapa30@hotmail.com">Chivapa30@hotmail.com</a> <a href="mailto:Gregoriaam.71@gmail.com">Gregoriaam.71@gmail.com</a> Pachito2409@hotmail.com		TELÉFONO: 3234587258 3234600546 3128843908 3116124247		
FICHA DE RESPUESTAS.				
1	2	3	4	5
Ⓐ	Ⓐ	Ⓐ	Ⓐ	Ⓐ
Ⓑ	Ⓑ	Ⓑ	Ⓑ	Ⓑ
Ⓒ	Ⓒ	Ⓒ	Ⓒ	Ⓒ
ESTUDIANTE: _____				
Teniendo en cuenta la numeración de las preguntas, rellena el círculo con la opción de la respuesta seleccionada.				

**ORIENTACIONES GENERALES.** Estimado estudiante, el cuestionario que se presenta a continuación es para identificar todo lo que has aprendido de los temas consignados en las guías durante este proceso de trabajo en casa, por favor resuélvelas con toda la dedicación y honestidad posible. No permitas que te digan las respuestas, ni que otros te hagan la actividad, solo te pueden guiar, porque tú eres inteligente y lo puedes lograr. Las respuestas las debes enviar por fotos o pantallazos del cuadrito de respuestas diligenciadas a mi WhatsApp y de esta forma vamos retroalimentando el proceso.

### EVALUACIÓN ACUMULATIVA DE RELIGION.

**Primero, en cada pregunta marca la opción seleccionada con una X. Luego, en la parte superior FICHA DE RESPUESTAS, rellena el círculo con la opción correspondiente.**

La vida es muy importante en todos los seres vivos, cada especie tiene una función en la naturaleza por eso debemos respetar y valorar la forma de vida de todos los seres vivos

1. Como valoras tú la vida:
  - A. Maltratando a los animales.
  - B. Cuidando y protegiendo las plantas y animales.
  - C. Cortando los árboles.
  - D. Destruyendo los nidos de las aves.
  
2. ¿Cuál de las imágenes es una mala acción?



# INSTITUCIÓN EDUCATIVA CATALINO GULFO

A



B



C



D



Dios creo los cielos y la tierra y todos los seres que en ella hay.

3. Señala lo que Dios creo.

- A. Mesas y sillas.
- B. Animales y plantas.
- C. Carros y motos.
- D. Casas y personas.

4. ¿Qué te gusta más de la creación de Dios?

- A. Las personas
- B. Los animales.
- C. Las estrellas del cielo.
- D. Las plantas.

5. ¿Cómo le das gracias a Dios por la vida?

- A. Orando.
- B. Cantando.
- C. Portándote bien.
- D. Sirviendo al necesitado.

Recuerda que la vida es un regalo de Dios  
iiii Demos gracias a Diosiii

COLOREA



# INSTITUCIÓN EDUCATIVA CATALINO GULFO


EVALUACIÓN ACUMULATIVA.									
GRADO 1	AREA: ETICA	FECHA: DEL 23 DEMARZO AL 05 DE ABRIL DEL 2021							
DOCENTES	RODRIGO MARTINES SHIRLY VIDAL GREGORIA ARTEAGA DIANA NEGRETE								
CORREO: <a href="mailto:Rodrigomartinez3060@hotmail.com">Rodrigomartinez3060@hotmail.com</a> <a href="mailto:Chivipa30@hotmail.com">Chivipa30@hotmail.com</a> <a href="mailto:Gregoriaam.71@gmail.com">Gregoriaam.71@gmail.com</a> Pachito2409@hotmail.com		TELEFONO: 3234587558 3135623143 3148843908 3116124247							
FICHA DE RESPUESTAS.									
1	2	3	4	5	6	7	8	9	10
(A)	(A)	(A)	(A)	(A)	(A)	(A)	(A)	(A)	(A)
(B)	(B)	(B)	(B)	(B)	(B)	(B)	(B)	(B)	(B)
(C)	(C)	(C)	(C)	(C)	(C)	(C)	(C)	(C)	(C)
(D)	(D)	(D)	(D)	(D)	(D)	(D)	(D)	(D)	(D)
ESTUDIANTE: _____									
Teniendo en cuenta la numeración de las preguntas, rellena el círculo con la opción de la respuesta seleccionada.									

**ORIENTACIONES GENERALES.** Apreciados estudiantes saludos, teniendo en cuenta de tus capacidades, habilidades y disciplina que has demostrado con la realización de las guías anteriores, hoy nuevamente te invito a resolver este cuestionario. Esta evaluación la realizamos poniendo en práctica tus conocimientos adquiridos con la primera y segunda guía entregada. Si tienes internet o datos, favor enviarme fotos o pantallazos de la ficha de respuestas diligenciadas a mi WhatsApp o al correo, lo anterior con el propósito de revisar el cuestionario.

## EVALUACIÓN ACUMULATIVA DE ETICAY VALORES GRADO 1

**Primero:** en cada pregunta selecciona la opción según la afirmación dada y marca con una **X**.  
**Luego,** en la parte superior hay una FICHA DE RESPUESTAS, enumerada por preguntas rellena el círculo con la opción correspondiente.

### Cuerpo



Debo quererme y cuidar mi cuerpo y expreso mis emociones a otras personas con respeto, por eso algunos miembros y órganos de mi cuerpo me sirven para:

1. Con ella puedo expresar muchas frases excepto:



- A. Ser tolerante con los demás
  - B. Expresar mis alegrías
  - C. Recibir el alimento
  - D. Insultar y criticar a los demás
2. Mi corazón debo cuidarlo en muchas actividades excepto:

## INSTITUCIÓN EDUCATIVA CATALINO GULFO



- A. Ayudarla a parar
- B. Llevarla al hospital
- C. Llamar a sus padres
- D. Irme y dejarla sola

- A. Haciendo ejercicio
- B. Alimentándome bien
- C. Tener emociones agradables
- D. No realizando actividades como ejercicios y deportes

3. Margarita es responsable de su cuerpo por eso aplica en su piel cremas, Excepto:

- A. Bloqueador solar
- B. Cremas
- C. Ningún tipo de protección
- D. Utiliza buzos

4. Manuel es responsable de su cuerpo, principalmente al ir al colegio, usa protección excepto cuando:



- A. Usa tapabocas
- B. Usa antivacterial
- C. Se lava las manos
- D. Al hablar se quita el tapabocas

5. Valentina de paseo en el parque se cae de su bicicleta, mi actitud negativa hacia ella es:



# INSTITUCIÓN EDUCATIVA CATALINO GULFO

EVALUACIÓN ACUMULATIVA.									
GRADO 1B	AREA: TECNOLOGIA				FECHA: DEL 23 DEMARZO AL 05 DE ABRIL DEL 2021				
DOCENTES:	RODRIGO MARTINES ( 1º A) SHIRLY VIDAL ( 1º B) GREGORIA ARTEAGA ( 1º C) DIANA NEGRETE ( 1º D)								
CORREO: <a href="mailto:Rodrigomartinez3060@hotmail.com">Rodrigomartinez3060@hotmail.com</a> <a href="mailto:Chivipa30@hotmail.com">Chivipa30@hotmail.com</a> <a href="mailto:Gregoriaam71@gmail.com">Gregoriaam71@gmail.com</a> Pachito2409@hotmail.com					3234587258 3234530546 3148843908 3116124247				
FICHA DE RESPUESTAS.									
1	2	3	4	5	6	7	8	9	10
(A)	(A)	(A)	(A)	(A)	(A)	(A)	(A)	(A)	(A)
(B)	(B)	(B)	(B)	(B)	(B)	(B)	(B)	(B)	(B)
(C)	(C)	(C)	(C)	(C)	(C)	(C)	(C)	(C)	(C)
(D)	(D)	(D)	(D)	(D)	(D)	(D)	(D)	(D)	(D)
ESTUDIANTE: _____									
Teniendo en cuenta la numeración de las preguntas, rellena el círculo con la opción de la respuesta seleccionada.									

**ORIENTACIONES GENERALES.** Apreciados estudiantes saludos, teniendo en cuenta de tus capacidades, habilidades y disciplina que has demostrado con la realización de las guías anteriores, hoy nuevamente te invito a resolver este cuestionario. Esta evaluación la realizamos poniendo en práctica tus conocimientos adquiridos con la primera y segunda guía entregada. Si tienes internet o datos, favor enviarme fotos o pantallazos de la ficha de respuestas diligenciadas a mi WhatsApp o al correo, lo anterior con el propósito de revisar el cuestionario.

## EVALUACIÓN ACUMULATIVA DE TECNOLOGIA E INFORMATICA GRADO 1

**Primero:** en cada pregunta selecciona la opción según la afirmación dada y marca con una **X**.  
**Luego,** en la parte superior hay una FICHA DE RESPUESTAS, enumerada por preguntas rellena el círculo con la opción correspondiente.

En nuestro hogar abunda la tecnología materializada no solo en dispositivos electrónicos. Conoce por qué es cierta esta información.

- Las estufas son electrodomésticos o aparatos tecnológicos en el hogar que nos sirven para realizar muchas actividades excepto.



- Cocinar
- Calentar alimentos
- Hervir agua
- Planchar


- La nevera es de mucha utilidad en el hogar excepto para:

## INSTITUCIÓN EDUCATIVA CATALINO GULFO



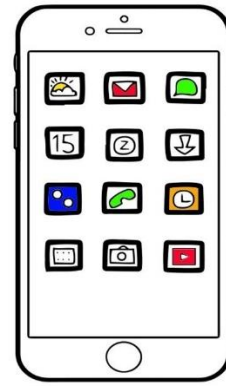
- A. Calentar la ropa
- B. Guardar carnes
- C. Guardar jugos y bebidas
- D. Guardar vegetales

3. El televisor es de mucha utilidad en el hogar excepto para:



- A. Ver deporte
- B. Películas
- C. Novelas
- D. Colocar vasos y alimentarnos sobre él.

4. Los Smartphone son dispositivos electrónicos de gran utilidad a las personas excepto cuando lo utilizamos para:



- A. Consultar tareas
  - B. Enviar mensaje
  - C. Comunicación en línea
  - D. Ver cosas indebidas
5. En nuestros hogares encontramos artefactos tecnológicos uno de los siguientes artefactos tecnológicos no es eléctrico.
- A. Computador
  - B. Nevera
  - C. Mesa
  - D. Licuadora

## INSTITUCIÓN EDUCATIVA CATALINO GULFO

EVALUACIÓN ACUMULATIVA.				
GRADO 1	ÁREA:AGROPECUARIA	FECHA: DEL 23 DE MARZO AL 5 DE ABRIL DE 2021		
DOCENTES	RODRIGO MARTINEZ SHIRLY VIDAL GREGORIA ARTEAGA DIANA NEGRETE			
CORREO : <a href="mailto:Rodrigomartinez30@hotmail.com">Rodrigomartinez30@hotmail.com</a> Chivapa30@hotmail.com <a href="mailto:gregoriaam.71@gmail.com">gregoriaam.71@gmail.com</a> pachito2409@hotmail.com		TELÉFONO: 3234587258 3135623143 3148843908 3116124247		
FICHA DE RESPUESTAS.				
1	2	3	4	5
Ⓐ	Ⓐ	Ⓐ	Ⓐ	Ⓐ
Ⓑ	Ⓑ	Ⓑ	Ⓑ	Ⓑ
Ⓒ	Ⓒ	Ⓒ	Ⓒ	Ⓒ
ESTUDIANTE: _____				
Teniendo en cuenta la numeración de las preguntas, rellena el círculo con la opción de la respuesta seleccionada.				

**ORIENTACIONES GENERALES.** Estimado estudiante, el cuestionario que se presenta a continuación es para identificar todo lo que has aprendido de los temas consignados en las guías durante este proceso de trabajo en casa, por favor resuélvelas con toda la dedicación y honestidad posible. No permitas que te digan las respuestas, ni que otros te hagan la actividad, solo te pueden guiar y leer porque tú eres inteligente y lo puedes lograr. Las respuestas las debes enviar por fotos o pantallazos del cuadrito de respuestas diligenciadas a mi WhatsApp y de esta forma vamos retroalimentando el proceso.

### EVALUACIÓN ACUMULATIVA DE AGROPECUARIA.

**Primero, en cada pregunta marca la opción seleccionada con una X. Luego, en la parte superior FICHA DE RESPUESTAS, rellena el círculo con la opción correspondiente.**

1. Marca la respuesta correcta

---Son seres vivos:

- A. Silla, balón.
- B. Cartera sombrilla.
- C. Niño perro.
- D. Roca agua.

2. Los seres vivos necesitan dos elementos importantes para vivir:

- A. Plata, oro.



## INSTITUCIÓN EDUCATIVA CATALINO GULFO

- B. Aire, agua.
- C. Gasolina, hierro.
- D. Casa, bicicleta.

3. Son seres inertes:

- A. Zapato camisa.
- B. Planta conejo.
- C. Gallina escoba.
- D. Niña gato.

4. De acuerdo al siguiente enunciado escoge el correcto.

Los seres vivos:

- A. Caminan, no comen.
- B. Nacen, crecen se reproducen y mueren.
- C. Nadan cantan.
- D. Lloran no se mueven.

5. De acuerdo a las siguientes imágenes cual es un ser vivo:

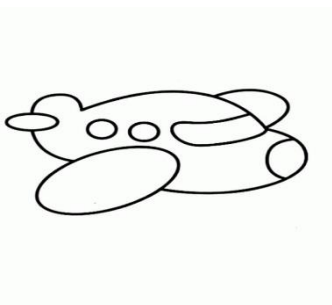
COLOREA.



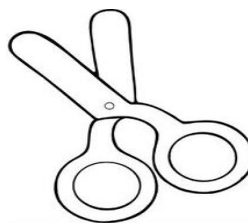
A



B



C



## INSTITUCIÓN EDUCATIVA CATALINO GULFO

EVALUACIÓN ACUMULATIVA.				
GRADO 1	ÁREA: INGLES	FECHA: DEL 23 DE MARZO AL 5 DE ABRIL DE 2021		
DOCENTE	RODRIGO MARTINEZ SHIRLY VIDAL GREGORIA ARTEAGA DIANA NEGRETE			
CORREO: <a href="mailto:Rodrigomartinez3060@hotmail.com">Rodrigomartinez3060@hotmail.com</a> <a href="mailto:Chivapa30@hotmail.com">Chivapa30@hotmail.com</a> <a href="mailto:Gregoriaam.71@gmail.com">Gregoriaam.71@gmail.com</a> <a href="mailto:Pachito2409@hotmail.com">Pachito2409@hotmail.com</a>		TELÉFONO: 3234587258 3135623143 3148843908 3116124247		
FICHA DE RESPUESTAS.				
1	2	3	4	5
Ⓐ	Ⓐ	Ⓐ	Ⓐ	Ⓐ
Ⓑ	Ⓑ	Ⓑ	Ⓑ	Ⓑ
Ⓒ	Ⓒ	Ⓒ	Ⓒ	Ⓒ
ESTUDIANTE: _____				
Teniendo en cuenta la numeración de las preguntas, rellena el círculo con la opción de la respuesta seleccionada.				

**ORIENTACIONES GENERALES.** Estimado estudiante, el cuestionario que se presenta a continuación es para identificar todo lo que has aprendido de los temas consignados en las guías durante este proceso de trabajo en casa, por favor resuélvelas con toda la dedicación y honestidad posible. No permitas que te digan las respuestas, ni que otros te hagan la actividad, solo te pueden guiar, porque tú eres inteligente y lo puedes lograr. Las respuestas las debes enviar por fotos o pantallazos del cuadrito de respuestas diligenciadas a mi WhatsApp y de esta forma vamos retroalimentando el proceso.


### EVALUACIÓN ACUMULATIVA DE INGLES.

**Primero, en cada pregunta marca la opción seleccionada con una X. Luego, en la parte superior FICHA DE RESPUESTAS, rellena el círculo con la opción correspondiente.**

1. Marca la respuesta correcta:
  - Cuál de estos saludos utilizamos a diario.
  - A. Helo, Good morning, Good
  - B. Afternoon, Good evening, Good bye.
  - C. Good bye, Good afternoon, One, Two
  - D. Hello, Seven, Two, For.

## INSTITUCIÓN EDUCATIVA CATALINO GULFO

2. Observa la imagen y elige la opción que corresponde al saludo:



- A. Good afternoon
- B. Good evening
- C. Good morning

3. Hi, hello corresponden a:

- A. Saludos.
- B. Despedidas.
- C. Útiles escolares.

4. Las palabras good bye, bye bye, so long.

- Corresponden a:

- A. Despedida.
- B. Saludos.
- C. Partes del salón.
  
- D. Verde, azul y morado
- E. Rojo, gris y amarillo
- F. Amarillo, azul y rojo.

5. De acuerdo a la imagen.

--Que saludo está utilizando



- A. Good morning
- B. Good bye
- C. hello

## BENDICIONES Y SUERTE.

## INSTITUCIÓN EDUCATIVA CATALINO GULFO

EVALUACIÓN ACUMULATIVA.									
GRADO 1	AREA: ARTISTICA	FECHA: DEL 23 DEMARZO AL 05 DE ABRIL DEL 2021							
DOCENTE	RODRIGO MARTINEZ DURANGO SHIRLY VIDAL GREGORIA ARTEAGA DIANA NEGRETE								
CORREO: <a href="mailto:rodrigomartinez3060@hotmail.com">rodrigomartinez3060@hotmail.com</a> <a href="mailto:Chivapa30@hotmail.com">Chivapa30@hotmail.com</a> <a href="mailto:Gregoriaam.71@gmail.com">Gregoriaam.71@gmail.com</a> <a href="mailto:Pachito2409@hotmail.com">Pachito2409@hotmail.com</a>		TELEFONO: 3234587258 3135623143 3148843908 3116124247							
FICHA DE RESPUESTAS.									
1	2	3	4	5	6	7	8	9	10
(A)	(A)	(A)	(A)	(A)	(A)	(A)	(A)	(A)	(A)
(B)	(B)	(B)	(B)	(B)	(B)	(B)	(B)	(B)	(B)
(C)	(C)	(C)	(C)	(C)	(C)	(C)	(C)	(C)	(C)
(D)	(D)	(D)	(D)	(D)	(D)	(D)	(D)	(D)	(D)
ESTUDIANTE: _____									
Teniendo en cuenta la numeración de las preguntas, rellena el círculo con la opción de la respuesta seleccionada.									

**ORIENTACIONES GENERALES.** Apreciados estudiantes saludos, teniendo en cuenta de tus capacidades, habilidades y disciplina que has demostrado con la realización de las guías anteriores, hoy nuevamente te invito a resolver este cuestionario. Esta evaluación la realizamos poniendo en práctica tus conocimientos adquiridos con la primera y segunda guía entregada. Si tienes internet o datos, favor enviarme fotos o pantallazos de la ficha de respuestas diligenciadas a mi WhatsApp o al correo, lo anterior con el propósito de revisar el cuestionario.

### EVALUACIÓN ACUMULATIVA DE ARTISTICA GRADO 1

**Primero:** en cada pregunta selecciona la opción según la afirmación dada y marca con una **X**.  
**Luego,** en la parte superior hay una FICHA DE RESPUESTAS, enumerada por preguntas rellena el círculo con la opción correspondiente.

1. Observa las siguientes imágenes:  
¿Cuál no es una línea orgánica irregular?



2. Une los puntos en forma secuencial y selecciona que figura forma.



- a. Sol
  - b. Estrella
  - c. Luna
  - d. Meteorito
3. Al unir muchísimos puntos se nos forma primeramente:
- A. Un triángulo
  - B. Un cuadrado
  - C. Una línea
  - D. Un cono
4. Son ejemplos de línea orgánica irregular. ¿excepto?
- A. Un río
  - B. Un caracol
  - C. Un sombrero
  - D. Una línea vertical
5. Sobre un punto podemos trazar solamente
- A. Solo una línea recta
  - B. Solo dos líneas rectas
  - C. Solo tres líneas rectas
  - D. Infinitas líneas rectas



## INSTITUCIÓN EDUCATIVA CATALINO GULFO


EVALUACIÓN ACUMULATIVA.									
GRADO 1A	AREA: E.D. FISICA	FECHA: DEL 23 DEMARZO AL 05 DE ABRIL DEL 2021							
DOCENTE	RODRIGO MARTINEZ DURANGO SHIRLY VIDAL GREGORIA ARTEAGA DIANA NEGRETE								
CORREO: <a href="mailto:rodrigomartinez3060@hotmail.com">rodrigomartinez3060@hotmail.com</a> <a href="mailto:Chivapa30@hotmail.com">Chivapa30@hotmail.com</a> <a href="mailto:Gregoriaam.71@gmail.com">Gregoriaam.71@gmail.com</a> <a href="mailto:Pachito2409@hotmail.com">Pachito2409@hotmail.com</a>		TELEFONO: 3234587258 3135623143 3148843908 3116124247							
FICHA DE RESPUESTAS.									
1	2	3	4	5	6	7	8	9	10
(A)	(A)	(A)	(A)	(A)	(A)	(A)	(A)	(A)	(A)
(B)	(B)	(B)	(B)	(B)	(B)	(B)	(B)	(B)	(B)
(C)	(C)	(C)	(C)	(C)	(C)	(C)	(C)	(C)	(C)
(D)	(D)	(D)	(D)	(D)	(D)	(D)	(D)	(D)	(D)
ESTUDIANTE: _____									
Teniendo en cuenta la numeración de las preguntas, rellena el círculo con la opción de la respuesta seleccionada.									

**ORIENTACIONES GENERALES.** Apreciados estudiantes saludos, teniendo en cuenta de tus capacidades, habilidades y disciplina que has demostrado con la realización de las guías anteriores, hoy nuevamente te invito a resolver este cuestionario. Esta evaluación la realizamos poniendo en práctica tus conocimientos adquiridos con la primera y segunda guía entregada. Si tienes internet o datos, favor enviarme fotos o pantallazos de la ficha de respuestas diligenciadas a mi WhatsApp o al correo, lo anterior con el propósito de revisar el cuestionario.

### EVALUACIÓN ACUMULATIVA DE EDUCACION FISICA GRADO 1

**Primero:** en cada pregunta selecciona la opción según la afirmación dada y marca con una **X**.  
**Luego,** en la parte superior hay una FICHA DE RESPUESTAS, enumerada por preguntas rellena el círculo con la opción correspondiente.

1. La práctica de los ejercicios y el deporte me benefician para:



- A. Dormir tranquilamente
- B. Mantener cuerpo y mente sana
- C. Reposar
- D. Divertirme

2. Para la práctica del deporte del futbol ¿cuál de los siguientes implementos no es necesario?



- A. Balón

## INSTITUCIÓN EDUCATIVA CATALINO GULFO

- B. Camiseta
  - C. Guantes
  - D. Guayos
3. Observa la siguiente imagen deportiva y menciona que deporte se está practicando.
- A. Boxeo
  - B. Maratón
  - C. Ciclismo
  - D. Fútbol
5. Para la práctica de fútbol no es necesario el siguiente implemento deportivo.
- A. Camisetas
  - B. Balones
  - C. Raquetas
  - D. Silbato



- A. Fútbol
  - B. Boxeo
  - C. Basquetbol
  - D. Voleibol
4. Estos implementos deportivos son necesarios para practicar el deporte de:

